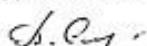


МИНИСТЕРСТВО ПРОСВЕЩЕНИЯ РОССИЙСКОЙ ФЕДЕРАЦИИ
МИНИСТЕРСТВО ОБРАЗОВАНИЯ И НАУКИ УДМУРТСКОЙ
РЕСПУБЛИКИ
УПРАВЛЕНИЕ ОБРАЗОВАНИЯ АДМИНИСТРАЦИИ
МУНИЦИПАЛЬНОГО ОБРАЗОВАНИЯ "МУНИЦИПАЛЬНЫЙ
ОКРУГ АЛНАШСКИЙ РАЙОН УДМУРТСКОЙ РЕСПУБЛИКИ"
МКОУ "АСОШ им. Т.К. Борисова"

РАССМОТРЕНО

Руководитель ШМО



Степанова Т.В.

Протокол №1 от «29»
августа 2024 г.

УТВЕРЖДЕНО

Директор школы



Крылова Т.Ф.

Приказ №128 01-02 от «30»
августа 2024 г.

РАБОЧАЯ ПРОГРАММА

(ID 6252975)

учебного предмета «Физика. Базовый уровень»

для обучающихся 10-11 классов

с. Нижнее Асаново, 2024 год

ПОЯСНИТЕЛЬНАЯ ЗАПИСКА

Программа по физике базового уровня на уровне среднего общего образования разработана на основе положений и требований к результатам освоения основной образовательной программы, представленных в ФГОС СОО, а также с учётом федеральной рабочей программы воспитания и концепции преподавания учебного предмета «Физика» в образовательных организациях Российской Федерации, реализующих основные образовательные программы.

Содержание программы по физике направлено на формирование естественно-научной картины мира обучающихся 10–11 классов при обучении их физике на базовом уровне на основе системно-деятельностного подхода. Программа по физике соответствует требованиям ФГОС СОО к планируемым личностным, предметным и метапредметным результатам обучения, а также учитывает необходимость реализации межпредметных связей физики с естественно-научными учебными предметами. В ней определяются основные цели изучения физики на уровне среднего общего образования, планируемые результаты освоения курса физики: личностные, метапредметные, предметные (на базовом уровне).

Программа по физике включает:

- планируемые результаты освоения курса физики на базовом уровне, в том числе предметные результаты по годам обучения;
- содержание учебного предмета «Физика» по годам обучения.

Физика как наука о наиболее общих законах природы, выступая в качестве учебного предмета в школе, вносит существенный вклад в систему знаний об окружающем мире. Школьный курс физики – системообразующий для естественно-научных учебных предметов, поскольку физические законы лежат в основе процессов и явлений, изучаемых химией, биологией, физической географией и астрономией. Использование и активное применение физических знаний определяет характер и развитие разнообразных технологий в сфере энергетики, транспорта, освоения космоса, получения новых материалов с заданными свойствами и других. Изучение физики вносит основной вклад в формирование естественно-научной картины мира обучающихся, в формирование умений применять научный метод познания при выполнении ими учебных исследований.

В основу курса физики для уровня среднего общего образования положен ряд идей, которые можно рассматривать как принципы его построения.

Идея целостности. В соответствии с ней курс является логически завершённым, он содержит материал из всех разделов физики, включает как вопросы классической, так и современной физики.

Идея генерализации. В соответствии с ней материал курса физики объединён вокруг физических теорий. Ведущим в курсе является формирование представлений о структурных уровнях материи, веществе и поле.

Идея гуманитаризации. Её реализация предполагает использование гуманитарного потенциала физической науки, осмысление связи развития физики с развитием общества, а также с мировоззренческими, нравственными и экологическими проблемами.

Идея прикладной направленности. Курс физики предполагает знакомство с широким кругом технических и технологических приложений изученных теорий и законов.

Идея экологизации реализуется посредством введения элементов содержания, посвящённых экологическим проблемам современности, которые связаны с развитием

техники и технологий, а также обсуждения проблем рационального природопользования и экологической безопасности.

Стержневыми элементами курса физики на уровне среднего общего образования являются физические теории (формирование представлений о структуре построения физической теории, роли фундаментальных законов и принципов в современных представлениях о природе, границах применимости теорий, для описания естественно-научных явлений и процессов).

Системно-деятельностный подход в курсе физики реализуется прежде всего за счёт организации экспериментальной деятельности обучающихся. Для базового уровня курса физики – это использование системы фронтальных кратковременных экспериментов и лабораторных работ, которые в программе по физике объединены в общий список ученических практических работ. Выделение в указанном перечне лабораторных работ, проводимых для контроля и оценки, осуществляется участниками образовательного процесса исходя из особенностей планирования и оснащения кабинета физики. При этом обеспечивается овладение обучающимися умениями проводить косвенные измерения, исследования зависимостей физических величин и постановку опытов по проверке предложенных гипотез.

Большое внимание уделяется решению расчётных и качественных задач. При этом для расчётных задач приоритетом являются задачи с явно заданной физической моделью, позволяющие применять изученные законы и закономерности как из одного раздела курса, так и интегрируя знания из разных разделов. Для качественных задач приоритетом являются задания на объяснение протекания физических явлений и процессов в окружающей жизни, требующие выбора физической модели для ситуации практико-ориентированного характера.

В соответствии с требованиями ФГОС СОО к материально-техническому обеспечению учебного процесса базовый уровень курса физики на уровне среднего общего образования должен изучаться в условиях предметного кабинета физики или в условиях интегрированного кабинета предметов естественно-научного цикла. В кабинете физики должно быть необходимое лабораторное оборудование для выполнения указанных в программе по физике ученических практических работ и демонстрационное оборудование.

Демонстрационное оборудование формируется в соответствии с принципом минимальной достаточности и обеспечивает постановку перечисленных в программе по физике ключевых демонстраций для исследования изучаемых явлений и процессов, эмпирических и фундаментальных законов, их технических применений.

Лабораторное оборудование для ученических практических работ формируется в виде тематических комплектов и обеспечивается в расчёте одного комплекта на двух обучающихся. Тематические комплекты лабораторного оборудования должны быть построены на комплексном использовании аналоговых и цифровых приборов, а также компьютерных измерительных систем в виде цифровых лабораторий.

Основными целями изучения физики в общем образовании являются:

- формирование интереса и стремления обучающихся к научному изучению природы, развитие их интеллектуальных и творческих способностей;
- развитие представлений о научном методе познания и формирование исследовательского отношения к окружающим явлениям;

- формирование научного мировоззрения как результата изучения основ строения материи и фундаментальных законов физики;
- формирование умений объяснять явления с использованием физических знаний и научных доказательств;
- формирование представлений о роли физики для развития других естественных наук, техники и технологий.

Достижение этих целей обеспечивается решением следующих задач в процессе изучения курса физики на уровне среднего общего образования:

- приобретение системы знаний об общих физических закономерностях, законах, теориях, включая механику, молекулярную физику, электродинамику, квантовую физику и элементы астрофизики;
- формирование умений применять теоретические знания для объяснения физических явлений в природе и для принятия практических решений в повседневной жизни;
- освоение способов решения различных задач с явно заданной физической моделью, задач, подразумевающих самостоятельное создание физической модели, адекватной условиям задачи;
- понимание физических основ и принципов действия технических устройств и технологических процессов, их влияния на окружающую среду;
- овладение методами самостоятельного планирования и проведения физических экспериментов, анализа и интерпретации информации, определения достоверности полученного результата;
- создание условий для развития умений проектно-исследовательской, творческой деятельности.

На изучение физики (базовый уровень) на уровне среднего общего образования отводится 136 часов: в 10 классе – 68 часов (2 часа в неделю), в 11 классе – 68 часов (2 часа в неделю).

Предлагаемый в программе по физике перечень лабораторных и практических работ является рекомендованным, учитель делает выбор проведения лабораторных работ и опытов с учётом индивидуальных особенностей обучающихся.

СОДЕРЖАНИЕ ОБУЧЕНИЯ

10 КЛАСС

Раздел 1. Физика и методы научного познания

Физика – наука о природе. Научные методы познания окружающего мира. Роль эксперимента и теории в процессе познания природы. Эксперимент в физике.

Моделирование физических явлений и процессов. Научные гипотезы. Физические законы и теории. Границы применимости физических законов. Принцип соответствия.

Роль и место физики в формировании современной научной картины мира, в практической деятельности людей.

Демонстрации

Аналоговые и цифровые измерительные приборы, компьютерные датчики.

Раздел 2. Механика

Тема 1. Кинематика

Механическое движение. Относительность механического движения. Система отсчёта. Траектория.

Перемещение, скорость (средняя скорость, мгновенная скорость) и ускорение материальной точки, их проекции на оси системы координат. Сложение перемещений и сложение скоростей.

Равномерное и равноускоренное прямолинейное движение. Графики зависимости координат, скорости, ускорения, пути и перемещения материальной точки от времени.

Свободное падение. Ускорение свободного падения.

Криволинейное движение. Движение материальной точки по окружности с постоянной по модулю скоростью. Угловая скорость, линейная скорость. Период и частота обращения. Центробежное ускорение.

Технические устройства и практическое применение: спидометр, движение снарядов, цепные и ремённые передачи.

Демонстрации

Модель системы отсчёта, иллюстрация кинематических характеристик движения.

Преобразование движений с использованием простых механизмов.

Падение тел в воздухе и в разреженном пространстве.

Наблюдение движения тела, брошенного под углом к горизонту и горизонтально.

Измерение ускорения свободного падения.

Направление скорости при движении по окружности.

Ученический эксперимент, лабораторные работы

Изучение неравномерного движения с целью определения мгновенной скорости.

Исследование соотношения между путями, пройденными телом за последовательные равные промежутки времени при равноускоренном движении с начальной скоростью, равной нулю.

Изучение движения шарика в вязкой жидкости.

Изучение движения тела, брошенного горизонтально.

Тема 2. Динамика

Принцип относительности Галилея. Первый закон Ньютона. Инерциальные системы отсчёта.

Масса тела. Сила. Принцип суперпозиции сил. Второй закон Ньютона для материальной точки. Третий закон Ньютона для материальных точек.

Закон всемирного тяготения. Сила тяжести. Первая космическая скорость.

Сила упругости. Закон Гука. Вес тела.

Трение. Виды трения (покоя, скольжения, качения). Сила трения. Сухое трение. Сила трения скольжения и сила трения покоя. Коэффициент трения. Сила сопротивления при движении тела в жидкости или газе.

Поступательное и вращательное движение абсолютно твёрдого тела.

Момент силы относительно оси вращения. Плечо силы. Условия равновесия твёрдого тела.

Технические устройства и практическое применение: подшипники, движение искусственных спутников.

Демонстрации

Явление инерции.

Сравнение масс взаимодействующих тел.

Второй закон Ньютона.

Измерение сил.

Сложение сил.

Зависимость силы упругости от деформации.

Невесомость. Вес тела при ускоренном подъёме и падении.

Сравнение сил трения покоя, качения и скольжения.

Условия равновесия твёрдого тела. Виды равновесия.

Ученический эксперимент, лабораторные работы

Изучение движения бруска по наклонной плоскости.

Исследование зависимости сил упругости, возникающих в пружине и резиновом образце, от их деформации.

Исследование условий равновесия твёрдого тела, имеющего ось вращения.

Тема 3. Законы сохранения в механике

Импульс материальной точки (тела), системы материальных точек. Импульс силы и изменение импульса тела. Закон сохранения импульса. Реактивное движение.

Работа силы. Мощность силы.

Кинетическая энергия материальной точки. Теорема об изменении кинетической энергии.

Потенциальная энергия. Потенциальная энергия упруго деформированной пружины. Потенциальная энергия тела вблизи поверхности Земли.

Потенциальные и непотенциальные силы. Связь работы непотенциальных сил с изменением механической энергии системы тел. Закон сохранения механической энергии.

Упругие и неупругие столкновения.

Технические устройства и практическое применение: водомёт, копёр, пружинный пистолет, движение ракет.

Демонстрации

Закон сохранения импульса.

Реактивное движение.

Переход потенциальной энергии в кинетическую и обратно.

Ученический эксперимент, лабораторные работы

Изучение абсолютно неупругого удара с помощью двух одинаковых нитяных маятников.

Исследование связи работы силы с изменением механической энергии тела на примере растяжения резинового жгута.

Раздел 3. Молекулярная физика и термодинамика

Тема 1. Основы молекулярно-кинетической теории

Основные положения молекулярно-кинетической теории и их опытное обоснование. Броуновское движение. Диффузия. Характер движения и взаимодействия частиц вещества. Модели строения газов, жидкостей и твёрдых тел и объяснение свойств вещества на основе этих моделей. Масса и размеры молекул. Количество вещества. Постоянная Авогадро.

Тепловое равновесие. Температура и её измерение. Шкала температур Цельсия.

Модель идеального газа. Основное уравнение молекулярно-кинетической теории идеального газа. Абсолютная температура как мера средней кинетической энергии теплового движения частиц газа. Шкала температур Кельвина. Газовые законы. Уравнение Менделеева–Клапейрона. Закон Дальтона. Изопроцессы в идеальном газе с постоянным количеством вещества. Графическое представление изопроцессов: изотерма, изохора, изобара.

Технические устройства и практическое применение: термометр, барометр.

Демонстрации

Опыты, доказывающие дискретное строение вещества, фотографии молекул органических соединений.

Опыты по диффузии жидкостей и газов.

Модель броуновского движения.

Модель опыта Штерна.

Опыты, доказывающие существование межмолекулярного взаимодействия.

Модель, иллюстрирующая природу давления газа на стенки сосуда.

Опыты, иллюстрирующие уравнение состояния идеального газа, изопроцессы.

Ученический эксперимент, лабораторные работы

Определение массы воздуха в классной комнате на основе измерений объёма комнаты, давления и температуры воздуха в ней.

Исследование зависимости между параметрами состояния разреженного газа.

Тема 2. Основы термодинамики

Термодинамическая система. Внутренняя энергия термодинамической системы и способы её изменения. Количество теплоты и работа. Внутренняя энергия одноатомного идеального газа. Виды теплопередачи: теплопроводность, конвекция, излучение. Удельная теплоёмкость вещества. Количество теплоты при теплопередаче.

Понятие об адиабатном процессе. Первый закон термодинамики. Применение первого закона термодинамики к изопроцессам. Графическая интерпретация работы газа.

Второй закон термодинамики. Необратимость процессов в природе.

Тепловые машины. Принципы действия тепловых машин. Преобразования энергии в тепловых машинах. Коэффициент полезного действия тепловой машины. Цикл Карно и его коэффициент полезного действия. Экологические проблемы теплоэнергетики.

Технические устройства и практическое применение: двигатель внутреннего сгорания, бытовой холодильник, кондиционер.

Демонстрации

Изменение внутренней энергии тела при совершении работы: вылет пробки из бутылки под действием сжатого воздуха, нагревание эфира в латунной трубке путём трения (видеодемонстрация).

Изменение внутренней энергии (температуры) тела при теплопередаче.

Опыт по адиабатному расширению воздуха (опыт с воздушным огнём).

Модели паровой турбины, двигателя внутреннего сгорания, реактивного двигателя.

Ученический эксперимент, лабораторные работы

Измерение удельной теплоёмкости.

Тема 3. Агрегатные состояния вещества. Фазовые переходы

Парообразование и конденсация. Испарение и кипение. Абсолютная и относительная влажность воздуха. Насыщенный пар. Удельная теплота парообразования. Зависимость температуры кипения от давления.

Твёрдое тело. Кристаллические и аморфные тела. Анизотропия свойств кристаллов. Жидкие кристаллы. Современные материалы. Плавление и кристаллизация. Удельная теплота плавления. Сублимация.

Уравнение теплового баланса.

Технические устройства и практическое применение: гигрометр и психрометр, калориметр, технологии получения современных материалов, в том числе наноматериалов, и нанотехнологии.

Демонстрации

Свойства насыщенных паров.

Кипение при пониженном давлении.

Способы измерения влажности.

Наблюдение нагревания и плавления кристаллического вещества.

Демонстрация кристаллов.

Ученический эксперимент, лабораторные работы

Измерение относительной влажности воздуха.

Раздел 4. Электродинамика

Тема 1. Электростатика

Электризация тел. Электрический заряд. Два вида электрических зарядов. Проводники, диэлектрики и полупроводники. Закон сохранения электрического заряда.

Взаимодействие зарядов. Закон Кулона. Точечный электрический заряд. Электрическое поле. Напряжённость электрического поля. Принцип суперпозиции электрических полей. Линии напряжённости электрического поля.

Работа сил электростатического поля. Потенциал. Разность потенциалов. Проводники и диэлектрики в электростатическом поле. Диэлектрическая проницаемость.

Емкость. Конденсатор. Емкость плоского конденсатора. Энергия заряженного конденсатора.

Технические устройства и практическое применение: электроскоп, электрометр, электростатическая защита, заземление электроприборов, конденсатор, копировальный аппарат, струйный принтер.

Демонстрации

Устройство и принцип действия электрометра.

Взаимодействие наэлектризованных тел.

Электрическое поле заряженных тел.

Проводники в электростатическом поле.

Электростатическая защита.

Диэлектрики в электростатическом поле.

Зависимость электроёмкости плоского конденсатора от площади пластин, расстояния между ними и диэлектрической проницаемости.

Энергия заряженного конденсатора.

Ученический эксперимент, лабораторные работы

Измерение электроёмкости конденсатора.

Тема 2. Постоянный электрический ток. Токи в различных средах

Электрический ток. Условия существования электрического тока. Источники тока.

Сила тока. Постоянный ток.

Напряжение. Закон Ома для участка цепи.

Электрическое сопротивление. Удельное сопротивление вещества.

Последовательное, параллельное, смешанное соединение проводников.

Работа электрического тока. Закон Джоуля–Ленца. Мощность электрического тока.

Электродвижущая сила и внутреннее сопротивление источника тока. Закон Ома для полной (замкнутой) электрической цепи. Короткое замыкание.

Электронная проводимость твёрдых металлов. Зависимость сопротивления металлов от температуры. Сверхпроводимость.

Электрический ток в вакууме. Свойства электронных пучков.

Полупроводники. Собственная и примесная проводимость полупроводников. Свойства р–n-перехода. Полупроводниковые приборы.

Электрический ток в растворах и расплавах электролитов. Электролитическая диссоциация. Электролиз.

Электрический ток в газах. Самостоятельный и несамостоятельный разряд. Молния. Плазма.

Технические устройства и практическое применение: амперметр, вольтметр, реостат, источники тока, электронагревательные приборы, электроосветительные приборы, термометр сопротивления, вакуумный диод, термисторы и фоторезисторы, полупроводниковый диод, гальваника.

Демонстрации

Измерение силы тока и напряжения.

Зависимость сопротивления цилиндрических проводников от длины, площади поперечного сечения и материала.

Смешанное соединение проводников.

Прямое измерение электродвижущей силы. Короткое замыкание гальванического элемента и оценка внутреннего сопротивления.

Зависимость сопротивления металлов от температуры.

Проводимость электролитов.

Искровой разряд и проводимость воздуха.

Односторонняя проводимость диода.

Ученический эксперимент, лабораторные работы

Изучение смешанного соединения резисторов.

Измерение электродвижущей силы источника тока и его внутреннего сопротивления.

Наблюдение электролиза.

Межпредметные связи

Изучение курса физики базового уровня в 10 классе осуществляется с учётом содержательных межпредметных связей с курсами математики, биологии, химии, географии и технологии.

Межпредметные понятия, связанные с изучением методов научного познания: явление, научный факт, гипотеза, физическая величина, закон, теория, наблюдение, эксперимент, моделирование, модель, измерение.

Математика: решение системы уравнений, линейная функция, парабола, гипербола, их графики и свойства, тригонометрические функции: синус, косинус, тангенс, котангенс, основное тригонометрическое тождество, векторы и их проекции на оси координат, сложение векторов.

Биология: механическое движение в живой природе, диффузия, осмос, теплообмен живых организмов (виды теплопередачи, тепловое равновесие), электрические явления в живой природе.

Химия: дискретное строение вещества, строение атомов и молекул, моль вещества, молярная масса, тепловые свойства твёрдых тел, жидкостей и газов, электрические свойства металлов, электролитическая диссоциация, гальваника.

География: влажность воздуха, ветры, барометр, термометр.

Технология: преобразование движений с использованием механизмов, учёт трения в технике, подшипники, использование закона сохранения импульса в технике (ракета, водомёт и другие), двигатель внутреннего сгорания, паровая турбина, бытовой холодильник, кондиционер, технологии получения современных материалов, в том числе наноматериалов, и нанотехнологии, электростатическая защита, заземление электроприборов, ксерокс, струйный принтер, электронагревательные приборы, электроосветительные приборы, гальваника.

11 КЛАСС

Раздел 4. Электродинамика

Тема 3. Магнитное поле. Электромагнитная индукция

Постоянные магниты. Взаимодействие постоянных магнитов. Магнитное поле. Вектор магнитной индукции. Принцип суперпозиции магнитных полей. Линии магнитной индукции. Картина линий магнитной индукции поля постоянных магнитов.

Магнитное поле проводника с током. Картина линий индукции магнитного поля длинного прямого проводника и замкнутого кольцевого проводника, катушки с током. Опыт Эрстеда. Взаимодействие проводников с током.

Сила Ампера, её модуль и направление.

Сила Лоренца, её модуль и направление. Движение заряженной частицы в однородном магнитном поле. Работа силы Лоренца.

Явление электромагнитной индукции. Поток вектора магнитной индукции. Электродвижущая сила индукции. Закон электромагнитной индукции Фарадея.

Вихревое электрическое поле. Электродвижущая сила индукции в проводнике, движущемся поступательно в однородном магнитном поле.

Правило Ленца.

Индуктивность. Явление самоиндукции. Электродвижущая сила самоиндукции.

Энергия магнитного поля катушки с током.

Электромагнитное поле.

Технические устройства и практическое применение: постоянные магниты, электромагниты, электродвигатель, ускорители элементарных частиц, индукционная печь.

Демонстрации

Опыт Эрстеда.

Отклонение электронного пучка магнитным полем.

Линии индукции магнитного поля.

Взаимодействие двух проводников с током.

Сила Ампера.

Действие силы Лоренца на ионы электролита.

Явление электромагнитной индукции.

Правило Ленца.

Зависимость электродвижущей силы индукции от скорости изменения магнитного потока.

Явление самоиндукции.

Учебный эксперимент, лабораторные работы

Изучение магнитного поля катушки с током.

Исследование действия постоянного магнита на рамку с током.

Исследование явления электромагнитной индукции.

Раздел 5. Колебания и волны

Тема 1. Механические и электромагнитные колебания

Колебательная система. Свободные механические колебания. Гармонические колебания. Период, частота, амплитуда и фаза колебаний. Пружинный маятник. Математический маятник. Уравнение гармонических колебаний. Превращение энергии при гармонических колебаниях.

Колебательный контур. Свободные электромагнитные колебания в идеальном колебательном контуре. Аналогия между механическими и электромагнитными колебаниями. Формула Томсона. Закон сохранения энергии в идеальном колебательном контуре.

Представление о затухающих колебаниях. Вынужденные механические колебания. Резонанс. Вынужденные электромагнитные колебания.

Переменный ток. Синусоидальный переменный ток. Мощность переменного тока. Амплитудное и действующее значение силы тока и напряжения.

Трансформатор. Производство, передача и потребление электрической энергии. Экологические риски при производстве электроэнергии. Культура использования электроэнергии в повседневной жизни.

Технические устройства и практическое применение: электрический звонок, генератор переменного тока, линии электропередач.

Демонстрации

Исследование параметров колебательной системы (пружинный или математический маятник).

Наблюдение затухающих колебаний.

Исследование свойств вынужденных колебаний.

Наблюдение резонанса.

Свободные электромагнитные колебания.

Осциллограммы (зависимости силы тока и напряжения от времени) для электромагнитных колебаний.

Резонанс при последовательном соединении резистора, катушки индуктивности и конденсатора.

Модель линии электропередачи.

Ученический эксперимент, лабораторные работы

Исследование зависимости периода малых колебаний груза на нити от длины нити и массы груза.

Исследование переменного тока в цепи из последовательно соединённых конденсатора, катушки и резистора.

Тема 2. Механические и электромагнитные волны

Механические волны, условия распространения. Период. Скорость распространения и длина волны. Поперечные и продольные волны. Интерференция и дифракция механических волн.

Звук. Скорость звука. Громкость звука. Высота тона. Тембр звука.

Электромагнитные волны. Условия излучения электромагнитных волн. Взаимная ориентация векторов E , B , V в электромагнитной волне. Свойства электромагнитных волн: отражение, преломление, поляризация, дифракция, интерференция. Скорость электромагнитных волн.

Шкала электромагнитных волн. Применение электромагнитных волн в технике и быту.

Принципы радиосвязи и телевидения. Радиолокация.

Электромагнитное загрязнение окружающей среды.

Технические устройства и практическое применение: музыкальные инструменты, ультразвуковая диагностика в технике и медицине, радар, радиоприёмник, телевизор, антенна, телефон, СВЧ-печь.

Демонстрации

Образование и распространение поперечных и продольных волн.

Колеблющееся тело как источник звука.

Наблюдение отражения и преломления механических волн.

Наблюдение интерференции и дифракции механических волн.

Звуковой резонанс.

Наблюдение связи громкости звука и высоты тона с амплитудой и частотой колебаний.

Исследование свойств электромагнитных волн: отражение, преломление, поляризация, дифракция, интерференция.

Тема 3. Оптика

Геометрическая оптика. Прямолинейное распространение света в однородной среде. Луч света. Точечный источник света.

Отражение света. Законы отражения света. Построение изображений в плоском зеркале.

Преломление света. Законы преломления света. Абсолютный показатель преломления. Полное внутреннее отражение. Предельный угол полного внутреннего отражения.

Дисперсия света. Сложный состав белого света. Цвет.

Собирающие и рассеивающие линзы. Тонкая линза. Фокусное расстояние и оптическая сила тонкой линзы. Построение изображений в собирающих и рассеивающих линзах. Формула тонкой линзы. Увеличение, даваемое линзой.

Пределы применимости геометрической оптики.

Волновая оптика. Интерференция света. Когерентные источники. Условия наблюдения максимумов и минимумов в интерференционной картине от двух синфазных когерентных источников.

Дифракция света. Дифракционная решётка. Условие наблюдения главных максимумов при падении монохроматического света на дифракционную решётку.

Поляризация света.

Технические устройства и практическое применение: очки, лупа, фотоаппарат, проекционный аппарат, микроскоп, телескоп, волоконная оптика, дифракционная решётка, поляриод.

Демонстрации

Прямолинейное распространение, отражение и преломление света. Оптические приборы.

Полное внутреннее отражение. Модель световода.

Исследование свойств изображений в линзах.

Модели микроскопа, телескопа.

Наблюдение интерференции света.

Наблюдение дифракции света.

Наблюдение дисперсии света.

Получение спектра с помощью призмы.

Получение спектра с помощью дифракционной решётки.

Наблюдение поляризации света.

Ученический эксперимент, лабораторные работы

Измерение показателя преломления стекла.

Исследование свойств изображений в линзах.

Наблюдение дисперсии света.

Раздел 6. Основы специальной теории относительности

Границы применимости классической механики. Постулаты специальной теории относительности: инвариантность модуля скорости света в вакууме, принцип относительности Эйнштейна.

Относительность одновременности. Замедление времени и сокращение длины.

Энергия и импульс релятивистской частицы.

Связь массы с энергией и импульсом релятивистской частицы. Энергия покоя.

Раздел 7. Квантовая физика

Тема 1. Элементы квантовой оптики

Фотоны. Формула Планка связи энергии фотона с его частотой. Энергия и импульс фотона.

Открытие и исследование фотоэффекта. Опыты А. Г. Столетова. Законы фотоэффекта. Уравнение Эйнштейна для фотоэффекта. «Красная граница» фотоэффекта.

Давление света. Опыты П. Н. Лебедева.

Химическое действие света.

Технические устройства и практическое применение: фотоэлемент, фотодатчик, солнечная батарея, светодиод.

Демонстрации

Фотоэффект на установке с цинковой пластиной.

Исследование законов внешнего фотоэффекта.

Светодиод.

Солнечная батарея.

Тема 2. Строение атома

Модель атома Томсона. Опыты Резерфорда по рассеянию α -частиц. Планетарная модель атома. Постулаты Бора. Излучение и поглощение фотонов при переходе атома с одного уровня энергии на другой. Виды спектров. Спектр уровней энергии атома водорода.

Волновые свойства частиц. Волны де Бройля. Корпускулярно-волновой дуализм.

Спонтанное и вынужденное излучение.

Технические устройства и практическое применение: спектральный анализ (спектроскоп), лазер, квантовый компьютер.

Демонстрации

Модель опыта Резерфорда.

Определение длины волны лазера.

Наблюдение линейчатых спектров излучения.

Лазер.

Учебный эксперимент, лабораторные работы

Наблюдение линейчатого спектра.

Тема 3. Атомное ядро

Эксперименты, доказывающие сложность строения ядра. Открытие радиоактивности. Опыты Резерфорда по определению состава радиоактивного излучения. Свойства альфа-, бета-, гамма-излучения. Влияние радиоактивности на живые организмы.

Открытие протона и нейтрона. Нуклонная модель ядра Гейзенберга–Иваненко. Заряд ядра. Массовое число ядра. Изотопы.

Альфа-распад. Электронный и позитронный бета-распад. Гамма-излучение. Закон радиоактивного распада.

Энергия связи нуклонов в ядре. Ядерные силы. Дефект массы ядра.

Ядерные реакции. Деление и синтез ядер.

Ядерный реактор. Термоядерный синтез. Проблемы и перспективы ядерной энергетики. Экологические аспекты ядерной энергетики.

Элементарные частицы. Открытие позитрона.

Методы наблюдения и регистрации элементарных частиц.

Фундаментальные взаимодействия. Единство физической картины мира.

Технические устройства и практическое применение: дозиметр, камера Вильсона, ядерный реактор, атомная бомба.

Демонстрации

Счётчик ионизирующих частиц.

Учебный эксперимент, лабораторные работы

Исследование треков частиц (по готовым фотографиям).

Раздел 8. Элементы астрономии и астрофизики

Этапы развития астрономии. Прикладное и мировоззренческое значение астрономии.

Вид звёздного неба. Созвездия, яркие звёзды, планеты, их видимое движение.

Солнечная система.

Солнце. Солнечная активность. Источник энергии Солнца и звёзд. Звёзды, их основные характеристики. Диаграмма «спектральный класс – светимость». Звёзды главной последовательности. Зависимость «масса – светимость» для звёзд главной последовательности. Внутреннее строение звёзд. Современные представления о происхождении и эволюции Солнца и звёзд. Этапы жизни звёзд.

Млечный Путь – наша Галактика. Положение и движение Солнца в Галактике. Типы галактик. Радиогалактики и квазары. Чёрные дыры в ядрах галактик.

Вселенная. Расширение Вселенной. Закон Хаббла. Разбегание галактик. Теория Большого взрыва. Реликтовое излучение.

Масштабная структура Вселенной. Метагалактика.

Нерешённые проблемы астрономии.

Ученические наблюдения

Наблюдения невооружённым глазом с использованием компьютерных приложений для определения положения небесных объектов на конкретную дату: основные созвездия Северного полушария и яркие звёзды.

Наблюдения в телескоп Луны, планет, Млечного Пути.

Обобщающее повторение

Роль физики и астрономии в экономической, технологической, социальной и этической сферах деятельности человека, роль и место физики и астрономии в современной научной картине мира, роль физической теории в формировании представлений о физической картине мира, место физической картины мира в общем ряду современных естественно-научных представлений о природе.

Межпредметные связи

Изучение курса физики базового уровня в 11 классе осуществляется с учётом содержательных межпредметных связей с курсами математики, биологии, химии, географии и технологии.

Межпредметные понятия, связанные с изучением методов научного познания: явление, научный факт, гипотеза, физическая величина, закон, теория, наблюдение, эксперимент, моделирование, модель, измерение.

Математика: решение системы уравнений, тригонометрические функции: синус, косинус, тангенс, котангенс, основное тригонометрическое тождество, векторы и их проекции на оси координат, сложение векторов, производные элементарных функций, признаки подобия треугольников, определение площади плоских фигур и объёма тел.

Биология: электрические явления в живой природе, колебательные движения в живой природе, оптические явления в живой природе, действие радиации на живые организмы.

Химия: строение атомов и молекул, кристаллическая структура твёрдых тел, механизмы образования кристаллической решётки, спектральный анализ.

География: магнитные полюса Земли, залежи магнитных руд, фотосъёмка земной поверхности, предсказание землетрясений.

Технология: линии электропередач, генератор переменного тока, электродвигатель, индукционная печь, радар, радиоприёмник, телевизор, антенна, телефон, СВЧ-печь, проекционный аппарат, волоконная оптика, солнечная батарея.

ПЛАНИРУЕМЫЕ РЕЗУЛЬТАТЫ ОСВОЕНИЯ ПРОГРАММЫ ПО ФИЗИКЕ НА УРОВНЕ СРЕДНЕГО ОБЩЕГО ОБРАЗОВАНИЯ

Освоение учебного предмета «Физика» на уровне среднего общего образования (базовый уровень) должно обеспечить достижение следующих личностных, метапредметных и предметных образовательных результатов.

ЛИЧНОСТНЫЕ РЕЗУЛЬТАТЫ

Личностные результаты освоения учебного предмета «Физика» должны отражать готовность и способность обучающихся руководствоваться сформированной внутренней позицией личности, системой ценностных ориентаций, позитивных внутренних убеждений, соответствующих традиционным ценностям российского общества, расширение жизненного опыта и опыта деятельности в процессе реализации основных направлений воспитательной деятельности, в том числе в части:

1) гражданского воспитания:

сформированность гражданской позиции обучающегося как активного и ответственного члена российского общества;

принятие традиционных общечеловеческих гуманистических и демократических ценностей;

готовность вести совместную деятельность в интересах гражданского общества, участвовать в самоуправлении в образовательной организации;

умение взаимодействовать с социальными институтами в соответствии с их функциями и назначением;

готовность к гуманитарной и волонтерской деятельности;

2) патриотического воспитания:

сформированность российской гражданской идентичности, патриотизма;

ценностное отношение к государственным символам, достижениям российских учёных в области физики и техники;

3) духовно-нравственного воспитания:

сформированность нравственного сознания, этического поведения;

способность оценивать ситуацию и принимать осознанные решения, ориентируясь на морально-нравственные нормы и ценности, в том числе в деятельности учёного;

осознание личного вклада в построение устойчивого будущего;

4) эстетического воспитания:

эстетическое отношение к миру, включая эстетику научного творчества, присущего физической науке;

5) трудового воспитания:

интерес к различным сферам профессиональной деятельности, в том числе связанным с физикой и техникой, умение совершать осознанный выбор будущей профессии и реализовывать собственные жизненные планы;

готовность и способность к образованию и самообразованию в области физики на протяжении всей жизни;

6) экологического воспитания:

сформированность экологической культуры, осознание глобального характера экологических проблем;

планирование и осуществление действий в окружающей среде на основе знания целей устойчивого развития человечества;

расширение опыта деятельности экологической направленности на основе имеющихся знаний по физике;

7) ценности научного познания:

сформированность мировоззрения, соответствующего современному уровню развития физической науки;

осознание ценности научной деятельности, готовность в процессе изучения физики осуществлять проектную и исследовательскую деятельность индивидуально и в группе.

МЕТАПРЕДМЕТНЫЕ РЕЗУЛЬТАТЫ

Познавательные универсальные учебные действия

Базовые логические действия:

самостоятельно формулировать и актуализировать проблему, рассматривать её всесторонне;

определять цели деятельности, задавать параметры и критерии их достижения;

выявлять закономерности и противоречия в рассматриваемых физических явлениях;

разрабатывать план решения проблемы с учётом анализа имеющихся материальных и нематериальных ресурсов;

вносить коррективы в деятельность, оценивать соответствие результатов целям, оценивать риски последствий деятельности;

координировать и выполнять работу в условиях реального, виртуального и комбинированного взаимодействия;

развивать креативное мышление при решении жизненных проблем.

Базовые исследовательские действия:

владеть научной терминологией, ключевыми понятиями и методами физической науки;

владеть навыками учебно-исследовательской и проектной деятельности в области физики, способностью и готовностью к самостоятельному поиску методов решения задач физического содержания, применению различных методов познания;

владеть видами деятельности по получению нового знания, его интерпретации, преобразованию и применению в различных учебных ситуациях, в том числе при создании учебных проектов в области физики;

выявлять причинно-следственные связи и актуализировать задачу, выдвигать гипотезу её решения, находить аргументы для доказательства своих утверждений, задавать параметры и критерии решения;

анализировать полученные в ходе решения задачи результаты, критически оценивать их достоверность, прогнозировать изменение в новых условиях;

ставить и формулировать собственные задачи в образовательной деятельности, в том числе при изучении физики;

давать оценку новым ситуациям, оценивать приобретённый опыт;

уметь переносить знания по физике в практическую область жизнедеятельности;

уметь интегрировать знания из разных предметных областей;

выдвигать новые идеи, предлагать оригинальные подходы и решения;

ставить проблемы и задачи, допускающие альтернативные решения.

Работа с информацией:

владеть навыками получения информации физического содержания из источников разных типов, самостоятельно осуществлять поиск, анализ, систематизацию и интерпретацию информации различных видов и форм представления;

оценивать достоверность информации;

использовать средства информационных и коммуникационных технологий в решении когнитивных, коммуникативных и организационных задач с соблюдением требований эргономики, техники безопасности, гигиены, ресурсосбережения, правовых и этических норм, норм информационной безопасности;

создавать тексты физического содержания в различных форматах с учётом назначения информации и целевой аудитории, выбирая оптимальную форму представления и визуализации.

Коммуникативные универсальные учебные действия:

осуществлять общение на уроках физики и во внеурочной деятельности;

распознавать предпосылки конфликтных ситуаций и смягчать конфликты;

развёрнуто и логично излагать свою точку зрения с использованием языковых средств;

понимать и использовать преимущества командной и индивидуальной работы;

выбирать тематику и методы совместных действий с учётом общих интересов и возможностей каждого члена коллектива;

принимать цели совместной деятельности, организовывать и координировать действия по её достижению: составлять план действий, распределять роли с учётом мнений участников, обсуждать результаты совместной работы;

оценивать качество своего вклада и каждого участника команды в общий результат по разработанным критериям;

предлагать новые проекты, оценивать идеи с позиции новизны, оригинальности, практической значимости;

осуществлять позитивное стратегическое поведение в различных ситуациях, проявлять творчество и воображение, быть инициативным.

Регулятивные универсальные учебные действия

Самоорганизация:

самостоятельно осуществлять познавательную деятельность в области физики и астрономии, выявлять проблемы, ставить и формулировать собственные задачи;

самостоятельно составлять план решения расчётных и качественных задач, план выполнения практической работы с учётом имеющихся ресурсов, собственных возможностей и предпочтений;

давать оценку новым ситуациям;

расширять рамки учебного предмета на основе личных предпочтений;

делать осознанный выбор, аргументировать его, брать на себя ответственность за решение;

оценивать приобретённый опыт;

способствовать формированию и проявлению эрудиции в области физики, постоянно повышать свой образовательный и культурный уровень.

Самоконтроль, эмоциональный интеллект:

давать оценку новым ситуациям, вносить коррективы в деятельность, оценивать соответствие результатов целям;

владеть навыками познавательной рефлексии как осознания совершаемых действий и мыслительных процессов, их результатов и оснований;

использовать приёмы рефлексии для оценки ситуации, выбора верного решения;

уметь оценивать риски и своевременно принимать решения по их снижению;

принимать мотивы и аргументы других при анализе результатов деятельности;

принимать себя, понимая свои недостатки и достоинства;

принимать мотивы и аргументы других при анализе результатов деятельности;

признавать своё право и право других на ошибки.

В процессе достижения личностных результатов освоения программы по физике для уровня среднего общего образования у обучающихся совершенствуется эмоциональный интеллект, предполагающий сформированность:

самосознания, включающего способность понимать своё эмоциональное состояние, видеть направления развития собственной эмоциональной сферы, быть уверенным в себе;

саморегулирования, включающего самоконтроль, умение принимать ответственность за своё поведение, способность адаптироваться к эмоциональным изменениям и проявлять гибкость, быть открытым новому;

внутренней мотивации, включающей стремление к достижению цели и успеху, оптимизм, инициативность, умение действовать исходя из своих возможностей;

эмпатии, включающей способность понимать эмоциональное состояние других, учитывать его при осуществлении общения, способность к сочувствию и сопереживанию;

социальных навыков, включающих способность выстраивать отношения с другими людьми, заботиться, проявлять интерес и разрешать конфликты.

ПРЕДМЕТНЫЕ РЕЗУЛЬТАТЫ

К концу обучения в **10 классе** предметные результаты на базовом уровне должны отражать сформированность у обучающихся умений:

демонстрировать на примерах роль и место физики в формировании современной научной картины мира, в развитии современной техники и технологий, в практической деятельности людей;

учитывать границы применения изученных физических моделей: материальная точка, инерциальная система отсчёта, абсолютно твёрдое тело, идеальный газ, модели строения газов, жидкостей и твёрдых тел, точечный электрический заряд при решении физических задач;

распознавать физические явления (процессы) и объяснять их на основе законов механики, молекулярно-кинетической теории строения вещества и электродинамики: равномерное и равноускоренное прямолинейное движение, свободное падение тел, движение по окружности, инерция, взаимодействие тел, диффузия, броуновское движение, строение жидкостей и твёрдых тел, изменение объёма тел при нагревании (охлаждении), тепловое равновесие, испарение, конденсация, плавление, кристаллизация, кипение, влажность воздуха, повышение давления газа при его нагревании в закрытом сосуде, связь между параметрами состояния газа в изопроцессах, электризация тел, взаимодействие зарядов;

описывать механическое движение, используя физические величины: координата, путь, перемещение, скорость, ускорение, масса тела, сила, импульс тела, кинетическая энергия, потенциальная энергия, механическая работа, механическая мощность; при описании правильно трактовать физический смысл используемых величин, их обозначения и единицы, находить формулы, связывающие данную физическую величину с другими величинами;

описывать изученные тепловые свойства тел и тепловые явления, используя физические величины: давление газа, температура, средняя кинетическая энергия хаотического движения молекул, среднеквадратичная скорость молекул, количество теплоты, внутренняя энергия, работа газа, коэффициент полезного действия теплового двигателя; при описании правильно трактовать физический смысл используемых величин, их обозначения и единицы, находить формулы, связывающие данную физическую величину с другими величинами;

описывать изученные электрические свойства вещества и электрические явления (процессы), используя физические величины: электрический заряд, электрическое поле, напряжённость поля, потенциал, разность потенциалов; при описании правильно трактовать физический смысл используемых величин, их обозначения и единицы; указывать формулы, связывающие данную физическую величину с другими величинами;

анализировать физические процессы и явления, используя физические законы и принципы: закон всемирного тяготения, I, II и III законы Ньютона, закон сохранения механической энергии, закон сохранения импульса, принцип суперпозиции сил, принцип равноправия инерциальных систем отсчёта, молекулярно-кинетическую теорию строения вещества, газовые законы, связь средней кинетической энергии теплового движения молекул с абсолютной температурой, первый закон термодинамики, закон сохранения электрического заряда, закон Кулона, при этом различать словесную формулировку закона, его математическое выражение и условия (границы, области) применимости;

объяснять основные принципы действия машин, приборов и технических устройств; различать условия их безопасного использования в повседневной жизни;

выполнять эксперименты по исследованию физических явлений и процессов с использованием прямых и косвенных измерений, при этом формулировать проблему/задачу и гипотезу учебного эксперимента, собирать установку из предложенного оборудования, проводить опыт и формулировать выводы;

осуществлять прямые и косвенные измерения физических величин, при этом выбирать оптимальный способ измерения и использовать известные методы оценки погрешностей измерений;

исследовать зависимости между физическими величинами с использованием прямых измерений, при этом конструировать установку, фиксировать результаты полученной зависимости физических величин в виде таблиц и графиков, делать выводы по результатам исследования;

соблюдать правила безопасного труда при проведении исследований в рамках учебного эксперимента, учебно-исследовательской и проектной деятельности с использованием измерительных устройств и лабораторного оборудования;

решать расчётные задачи с явно заданной физической моделью, используя физические законы и принципы, на основе анализа условия задачи выбирать физическую модель, выделять физические величины и формулы, необходимые для её решения, проводить расчёты и оценивать реальность полученного значения физической величины;

решать качественные задачи: выстраивать логически непротиворечивую цепочку рассуждений с опорой на изученные законы, закономерности и физические явления;

использовать при решении учебных задач современные информационные технологии для поиска, структурирования, интерпретации и представления учебной и научно-популярной информации, полученной из различных источников, критически анализировать получаемую информацию;

приводить примеры вклада российских и зарубежных учёных-физиков в развитие науки, объяснение процессов окружающего мира, в развитие техники и технологий;

использовать теоретические знания по физике в повседневной жизни для обеспечения безопасности при обращении с приборами и техническими устройствами, для сохранения здоровья и соблюдения норм экологического поведения в окружающей среде;

работать в группе с выполнением различных социальных ролей, планировать работу группы, рационально распределять обязанности и планировать деятельность в нестандартных ситуациях, адекватно оценивать вклад каждого из участников группы в решение рассматриваемой проблемы.

К концу обучения в **11 классе** предметные результаты на базовом уровне должны отражать сформированность у обучающихся умений:

демонстрировать на примерах роль и место физики в формировании современной научной картины мира, в развитии современной техники и технологий, в практической деятельности людей, целостность и единство физической картины мира;

учитывать границы применения изученных физических моделей: точечный электрический заряд, луч света, точечный источник света, ядерная модель атома, нуклонная модель атомного ядра при решении физических задач;

распознавать физические явления (процессы) и объяснять их на основе законов электродинамики и квантовой физики: электрическая проводимость, тепловое, световое, химическое, магнитное действия тока, взаимодействие магнитов, электромагнитная индукция, действие магнитного поля на проводник с током и движущийся заряд, электромагнитные колебания и волны, прямолинейное распространение света, отражение, преломление, интерференция, дифракция и поляризация света, дисперсия света, фотоэлектрический эффект (фотоэффект), световое давление, возникновение линейчатого спектра атома водорода, естественная и искусственная радиоактивность;

описывать изученные свойства вещества (электрические, магнитные, оптические, электрическую проводимость различных сред) и электромагнитные явления (процессы), используя физические величины: электрический заряд, сила тока, электрическое напряжение, электрическое сопротивление, разность потенциалов, электродвижущая сила, работа тока, индукция магнитного поля, сила Ампера, сила Лоренца, индуктивность катушки, энергия электрического и магнитного полей, период и частота колебаний в колебательном контуре, заряд и сила тока в процессе гармонических электромагнитных колебаний, фокусное расстояние и оптическая сила линзы, при описании правильно трактовать физический смысл используемых величин, их обозначения и единицы, указывать формулы, связывающие данную физическую величину с другими величинами;

описывать изученные квантовые явления и процессы, используя физические величины: скорость электромагнитных волн, длина волны и частота света, энергия и импульс фотона, период полураспада, энергия связи атомных ядер, при описании правильно трактовать физический смысл используемых величин, их обозначения и

единицы, указывать формулы, связывающие данную физическую величину с другими величинами, вычислять значение физической величины;

анализировать физические процессы и явления, используя физические законы и принципы: закон Ома, законы последовательного и параллельного соединения проводников, закон Джоуля–Ленца, закон электромагнитной индукции, закон прямолинейного распространения света, законы отражения света, законы преломления света, уравнение Эйнштейна для фотоэффекта, закон сохранения энергии, закон сохранения импульса, закон сохранения электрического заряда, закон сохранения массового числа, постулаты Бора, закон радиоактивного распада, при этом различать словесную формулировку закона, его математическое выражение и условия (границы, области) применимости;

определять направление вектора индукции магнитного поля проводника с током, силы Ампера и силы Лоренца;

строить и описывать изображение, создаваемое плоским зеркалом, тонкой линзой;

выполнять эксперименты по исследованию физических явлений и процессов с использованием прямых и косвенных измерений: при этом формулировать проблему/задачу и гипотезу учебного эксперимента, собирать установку из предложенного оборудования, проводить опыт и формулировать выводы;

осуществлять прямые и косвенные измерения физических величин, при этом выбирать оптимальный способ измерения и использовать известные методы оценки погрешностей измерений;

исследовать зависимости физических величин с использованием прямых измерений: при этом конструировать установку, фиксировать результаты полученной зависимости физических величин в виде таблиц и графиков, делать выводы по результатам исследования;

соблюдать правила безопасного труда при проведении исследований в рамках учебного эксперимента, учебно-исследовательской и проектной деятельности с использованием измерительных устройств и лабораторного оборудования;

решать расчётные задачи с явно заданной физической моделью, используя физические законы и принципы, на основе анализа условия задачи выбирать физическую модель, выделять физические величины и формулы, необходимые для её решения, проводить расчёты и оценивать реальность полученного значения физической величины;

решать качественные задачи: выстраивать логически непротиворечивую цепочку рассуждений с опорой на изученные законы, закономерности и физические явления;

использовать при решении учебных задач современные информационные технологии для поиска, структурирования, интерпретации и представления учебной и научно-популярной информации, полученной из различных источников, критически анализировать получаемую информацию;

объяснять принципы действия машин, приборов и технических устройств, различать условия их безопасного использования в повседневной жизни;

приводить примеры вклада российских и зарубежных учёных-физиков в развитие науки, в объяснение процессов окружающего мира, в развитие техники и технологий;

использовать теоретические знания по физике в повседневной жизни для обеспечения безопасности при обращении с приборами и техническими устройствами, для сохранения здоровья и соблюдения норм экологического поведения в окружающей среде;

работать в группе с выполнением различных социальных ролей, планировать работу группы, рационально распределять обязанности и планировать деятельность в нестандартных ситуациях, адекватно оценивать вклад каждого из участников группы в решение рассматриваемой проблемы.

ТЕМАТИЧЕСКОЕ ПЛАНИРОВАНИЕ 10 КЛАСС

№ п/п	Наименование разделов и тем программы	Количество часов			Электронные (цифровые) образовательные ресурсы
		Всего	Контрольные работы	Практические работы	
Раздел 1. ФИЗИКА И МЕТОДЫ НАУЧНОГО ПОЗНАНИЯ					
1.1	Физика и методы научного познания	2	1		Библиотека ЦОК https://m.edsoo.ru/7f41bf72
Итого по разделу		2			
Раздел 2. МЕХАНИКА					
2.1	Кинематика	5			Библиотека ЦОК https://m.edsoo.ru/7f41bf72
2.2	Динамика	7			Библиотека ЦОК https://m.edsoo.ru/7f41bf72
2.3	Законы сохранения в механике	6	1	1	Библиотека ЦОК https://m.edsoo.ru/7f41bf72
Итого по разделу		18			
Раздел 3. МОЛЕКУЛЯРНАЯ ФИЗИКА И ТЕРМОДИНАМИКА					
3.1	Основы молекулярно-кинетической теории	9		1	Библиотека ЦОК https://m.edsoo.ru/7f41bf72
3.2	Основы термодинамики	10	1		Библиотека ЦОК https://m.edsoo.ru/7f41bf72
3.3	Агрегатные состояния вещества. Фазовые переходы	5			Библиотека ЦОК https://m.edsoo.ru/7f41bf72

Итого по разделу		24			
Раздел 4. ЭЛЕКТРОДИНАМИКА					
4.1	Электростатика	10		1	Библиотека ЦОК https://m.edsoo.ru/7f41bf72
4.2	Постоянный электрический ток. Токи в различных средах	12	1	1	Библиотека ЦОК https://m.edsoo.ru/7f41bf72
Итого по разделу		22			
Повторение		1			
ОБЩЕЕ КОЛИЧЕСТВО ЧАСОВ ПО ПРОГРАММЕ		68	4	4	

11 КЛАСС

№ п/п	Наименование разделов и тем программы	Количество часов			Электронные (цифровые) образовательные ресурсы
		Всего	Контрольные работы	Практические работы	
Раздел 1. ЭЛЕКТРОДИНАМИКА					
1.1	Магнитное поле. Электромагнитная индукция	11	1	3	Библиотека ЦОК https://m.edsoo.ru/7f41c97c
Итого по разделу		11			
Раздел 2. КОЛЕБАНИЯ И ВОЛНЫ					
2.1	Механические и электромагнитные колебания	9		1	Библиотека ЦОК https://m.edsoo.ru/7f41c97c
2.2	Механические и электромагнитные волны	5	1		Библиотека ЦОК https://m.edsoo.ru/7f41c97c
2.3	Оптика	10		3	Библиотека ЦОК https://m.edsoo.ru/7f41c97c
Итого по разделу		24			
Раздел 3. ОСНОВЫ СПЕЦИАЛЬНОЙ ТЕОРИИ ОТНОСИТЕЛЬНОСТИ					
3.1	Основы специальной теории относительности	4	1		Библиотека ЦОК https://m.edsoo.ru/7f41c97c
Итого по разделу		4			
Раздел 4. КВАНТОВАЯ ФИЗИКА					
4.1	Элементы квантовой оптики	6			Библиотека ЦОК https://m.edsoo.ru/7f41c97c
4.2	Строение атома	4			Библиотека ЦОК

					https://m.edsoo.ru/7f41c97c
4.3	Атомное ядро	5			Библиотека ЦОК https://m.edsoo.ru/7f41c97c
Итого по разделу		15			
Раздел 5. ЭЛЕМЕНТЫ АСТРОНОМИИ И АСТРОФИЗИКИ					
5.1	Элементы астрономии и астрофизики	7	1		Библиотека ЦОК https://m.edsoo.ru/7f41c97c
Итого по разделу		7			
Раздел 6. ОБОБЩАЮЩЕЕ ПОВТОРЕНИЕ					
6.1	Обобщающее повторение	4			Библиотека ЦОК https://m.edsoo.ru/7f41c97c
Итого по разделу		7			
ОБЩЕЕ КОЛИЧЕСТВО ЧАСОВ ПО ПРОГРАММЕ		68	4	7	

ПОУРОЧНОЕ ПЛАНИРОВАНИЕ
10 КЛАСС

№ п/п	Тема урока	Количество часов			Электронные цифровые образовательные ресурсы
		Всего	Контрольные работы	Практические работы	
1	Физика — наука о природе. Научные методы познания окружающего мира	1			Библиотека ЦОК https://m.edsoo.ru/ff0c32e2
2	Роль и место физики в формировании современной научной картины мира, в практической деятельности людей	1			Библиотека ЦОК https://m.edsoo.ru/ff0c33e6
3	Входная контрольная работа	1	1		Библиотека ЦОК https://m.edsoo.ru/ff0c3508
4	Механическое движение. Относительность механического движения. Перемещение, скорость, ускорение	1			Библиотека ЦОК https://m.edsoo.ru/ff0c3620
5	Равномерное прямолинейное движение. Равноускоренное прямолинейное движение	1			Библиотека ЦОК https://m.edsoo.ru/ff0c372e
6	Свободное падение. Ускорение свободного падения	1			Библиотека ЦОК https://m.edsoo.ru/ff0c39cc
7	Криволинейное движение. Движение материальной точки по окружности	1			Библиотека ЦОК https://m.edsoo.ru/ff0c3ada
8	Принцип относительности	1			Библиотека ЦОК

	Галилея. Инерциальные системы отсчета. Первый закон Ньютона				https://m.edsoo.ru/ff0c3be8
9	Масса тела. Сила. Принцип суперпозиции сил. Второй закон Ньютона для материальной точки	1			Библиотека ЦОК https://m.edsoo.ru/ff0c3be8
10	Третий закон Ньютона для материальных точек	1			Библиотека ЦОК https://m.edsoo.ru/ff0c3be8
11	Закон всемирного тяготения. Сила тяжести. Первая космическая скорость	1			Библиотека ЦОК https://m.edsoo.ru/ff0c3d00
12	Сила упругости. Закон Гука. Вес тела	1			Библиотека ЦОК https://m.edsoo.ru/ff0c3e18
13	Сила трения. Коэффициент трения. Сила сопротивления при движении тела в жидкости или газе	1			Библиотека ЦОК https://m.edsoo.ru/ff0c3f76
14	Поступательное и вращательное движение абсолютно твёрдого тела. Момент силы. Плечо силы. Условия равновесия твёрдого тела	1			Библиотека ЦОК https://m.edsoo.ru/ff0c41a6
15	Импульс материальной точки, системы материальных точек. Импульс силы. Закон сохранения импульса. Реактивное движение	1			Библиотека ЦОК https://m.edsoo.ru/ff0c43d6
16	Работа и мощность силы. Кинетическая энергия материальной точки. Теорема об изменении кинетической энергии	1			Библиотека ЦОК https://m.edsoo.ru/ff0c4502

17	Потенциальная энергия. Потенциальная энергия упруго деформированной пружины. Потенциальная энергия тела вблизи поверхности Земли	1			Библиотека ЦОК https://m.edsoo.ru/ff0c461a
18	Потенциальные и непотенциальные силы. Связь работы непотенциальных сил с изменением механической энергии системы тел. Закон сохранения механической энергии	1			Библиотека ЦОК https://m.edsoo.ru/ff0c478c
19	Лабораторная работа «Исследование связи работы силы с изменением механической энергии тела на примере растяжения резинового жгута»	1		1	
20	Контрольная работа по теме «Кинематика. Динамика. Законы сохранения в механике»	1	1		Библиотека ЦОК https://m.edsoo.ru/ff0c4b74
21	Основные положения молекулярно-кинетической теории. Броуновское движение. Диффузия	1			Библиотека ЦОК https://m.edsoo.ru/ff0c4dc2
22	Характер движения и взаимодействия частиц вещества. Модели строения газов, жидкостей и твёрдых тел	1			
23	Масса молекул. Количество вещества. Постоянная Авогадро	1			

24	Тепловое равновесие. Температура и её измерение. Шкала температур Цельсия	1			
25	Идеальный газ в МКТ. Основное уравнение МКТ	1			Библиотека ЦОК https://m.edsoo.ru/ff0c4fde
26	Абсолютная температура как мера средней кинетической энергии движения молекул. Уравнение Менделеева-Клапейрона	1			Библиотека ЦОК https://m.edsoo.ru/ff0c511e
27	Закон Дальтона. Газовые законы	1			
28	Лабораторная работа «Исследование зависимости между параметрами состояния разреженного газа»	1		1	
29	Изопроцессы в идеальном газе и их графическое представление	1			Библиотека ЦОК https://m.edsoo.ru/ff0c570e
30	Внутренняя энергия термодинамической системы и способы её изменения. Количество теплоты и работа. Внутренняя энергия одноатомного идеального газа	1			Библиотека ЦОК https://m.edsoo.ru/ff0c5952
31	Виды теплопередачи	1			Библиотека ЦОК https://m.edsoo.ru/ff0c5c36
32	Удельная теплоёмкость вещества. Количество теплоты при теплопередаче. Адиабатный процесс	1			Библиотека ЦОК https://m.edsoo.ru/ff0c5c36

33	Первый закон термодинамики и его применение к изопротессам	1			Библиотека ЦОК https://m.edsoo.ru/ff0c5efc
34	Необратимость процессов в природе. Второй закон термодинамики	1			Библиотека ЦОК https://m.edsoo.ru/ff0c6230
35	Принцип действия и КПД тепловой машины	1			Библиотека ЦОК https://m.edsoo.ru/ff0c600a
36	Цикл Карно и его КПД	1			
37	Экологические проблемы теплоэнергетики	1			
38	Обобщающий урок «Молекулярная физика. Основы термодинамики»	1			Библиотека ЦОК https://m.edsoo.ru/ff0c6938
39	Контрольная работа по теме «Молекулярная физика. Основы термодинамики»	1	1		Библиотека ЦОК https://m.edsoo.ru/ff0c6a50
40	Парообразование и конденсация. Испарение и кипение	1			Библиотека ЦОК https://m.edsoo.ru/ff0c63b6
41	Абсолютная и относительная влажность воздуха. Насыщенный пар	1			Библиотека ЦОК https://m.edsoo.ru/ff0c64d8
42	Твёрдое тело. Кристаллические и аморфные тела. Анизотропия свойств кристаллов. Жидкие кристаллы. Современные материалы	1			Библиотека ЦОК https://m.edsoo.ru/ff0c65f0
43	Плавление и кристаллизация. Удельная теплота плавления.	1			Библиотека ЦОК https://m.edsoo.ru/ff0c6708

	Сублимация				
44	Уравнение теплового баланса	1			Библиотека ЦОК https://m.edsoo.ru/ff0c6820
45	Электризация тел. Электрический заряд. Два вида электрических зарядов	1			Библиотека ЦОК https://m.edsoo.ru/ff0c6bcc
46	Проводники, диэлектрики и полупроводники. Закон сохранения электрического заряда	1			Библиотека ЦОК https://m.edsoo.ru/ff0c6bcc
47	Взаимодействие зарядов. Закон Кулона. Точечный электрический заряд	1			Библиотека ЦОК https://m.edsoo.ru/ff0c6ce4
48	Напряжённость электрического поля. Принцип суперпозиции электрических полей. Линии напряжённости	1			Библиотека ЦОК https://m.edsoo.ru/ff0c6df2
49	Работа сил электростатического поля. Потенциал. Разность потенциалов	1			Библиотека ЦОК https://m.edsoo.ru/ff0c6f00
50	Проводники и диэлектрики в электростатическом поле. Диэлектрическая проницаемость	1			Библиотека ЦОК https://m.edsoo.ru/ff0c7018
51	Емкость. Конденсатор	1			Библиотека ЦОК https://m.edsoo.ru/ff0c7126
52	Емкость плоского конденсатора. Энергия заряженного конденсатора	1			Библиотека ЦОК https://m.edsoo.ru/ff0c72c0
53	Лабораторная работа "Измерение	1		1	

	электроёмкости конденсатора"				
54	Принцип действия и применение конденсаторов, копировального аппарата, струйного принтера. Электростатическая защита. Заземление электроприборов	1			
55	Электрический ток, условия его существования. Постоянный ток. Сила тока. Напряжение. Сопротивление. Закон Ома для участка цепи	1			
56	Последовательное, параллельное, смешанное соединение проводников. Лабораторная работа «Изучение смешанного соединения резисторов»	1		0.5	Библиотека ЦОК https://m.edsoo.ru/ff0c74f0
57	Работа и мощность электрического тока. Закон Джоуля-Ленца	1			Библиотека ЦОК https://m.edsoo.ru/ff0c7838
58	Закон Ома для полной (замкнутой) электрической цепи. Короткое замыкание. Лабораторная работа «Измерение ЭДС источника тока и его внутреннего сопротивления»	1		0.5	Библиотека ЦОК https://m.edsoo.ru/ff0c7ae0
59	Электронная проводимость твёрдых металлов. Зависимость сопротивления металлов от температуры. Сверхпроводимость	1			
60	Электрический ток в вакууме. Свойства электронных пучков	1			

61	Полупроводники, их собственная и примесная проводимость. Свойства р—n-перехода. Полупроводниковые приборы	1			Библиотека ЦОК https://m.edsoo.ru/ff0c84ae
62	Электрический ток в растворах и расплавах электролитов. Электролитическая диссоциация. Электролиз	1			Библиотека ЦОК https://m.edsoo.ru/ff0c82ba
63	Электрический ток в газах. Самостоятельный и несамостоятельный разряд. Молния. Плазма	1			Библиотека ЦОК https://m.edsoo.ru/ff0c84ae
64	Электрические приборы и устройства и их практическое применение. Правила техники безопасности	1			Библиотека ЦОК https://m.edsoo.ru/ff0c86fc
65	Обобщающий урок «Электродинамика»	1			Библиотека ЦОК https://m.edsoo.ru/ff0c88be
66	Контрольная работа по теме «Электростатика. Постоянный электрический ток. Токи в различных средах»	1	1		Библиотека ЦОК https://m.edsoo.ru/ff0c8a8a
67	Зачет по разделу «Электродинамика»	1			Библиотека ЦОК https://m.edsoo.ru/ff0c8c56
68	Обобщающий урок по темам 10 класса	1			Библиотека ЦОК https://m.edsoo.ru/ff0c8f6c
ОБЩЕЕ КОЛИЧЕСТВО ЧАСОВ ПО ПРОГРАММЕ		68	4	4	

11 КЛАСС

№ п/п	Тема урока	Количество часов			Электронные цифровые образовательные ресурсы
		Всего	Контрольные работы	Практические работы	
1	Постоянные магниты и их взаимодействие. Магнитное поле. Вектор магнитной индукции. Линии магнитной индукции	1			Библиотека ЦОК https://m.edsoo.ru/ff0c9778
2	Магнитное поле проводника с током. Опыт Эрстеда. Взаимодействие проводников с током	1			Библиотека ЦОК https://m.edsoo.ru/ff0c98fe
3	Лабораторная работа «Изучение магнитного поля катушки с током»	1		1	Библиотека ЦОК https://m.edsoo.ru/ff0c98fe
4	Действие магнитного поля на проводник с током. Сила Ампера. Лабораторная работа «Исследование действия постоянного магнита на рамку с током»	1		1	Библиотека ЦОК https://m.edsoo.ru/ff0c9ac0
5	Действие магнитного поля на движущуюся заряженную частицу. Сила Лоренца. Работа силы Лоренца	1			Библиотека ЦОК https://m.edsoo.ru/ff0c9df4
6	Электромагнитная индукция. Поток вектора магнитной индукции. ЭДС индукции. Закон электромагнитной индукции Фарадея	1			
7	Лабораторная работа «Исследование явления электромагнитной индукции»	1		1	Библиотека ЦОК https://m.edsoo.ru/ff0ca150

8	Индуктивность. Явление самоиндукции. ЭДС самоиндукции. Энергия магнитного поля катушки с током. Электромагнитное поле	1			Библиотека ЦОК https://m.edsoo.ru/ff0ca600
9	Технические устройства и их применение: постоянные магниты, электромагниты, электродвигатель, ускорители элементарных частиц, индукционная печь	1			
10	Обобщающий урок «Магнитное поле. Электромагнитная индукция»	1			Библиотека ЦОК https://m.edsoo.ru/ff0cab82
11	Контрольная работа по теме «Магнитное поле. Электромагнитная индукция»	1	1		Библиотека ЦОК https://m.edsoo.ru/ff0cad58
12	Свободные механические колебания. Гармонические колебания. Уравнение гармонических колебаний. Превращение энергии	1			Библиотека ЦОК https://m.edsoo.ru/ff0caf06
13	Лабораторная работа «Исследование зависимости периода малых колебаний груза на нити от длины нити и массы груза»	1		1	
14	Колебательный контур. Свободные электромагнитные колебания в идеальном колебательном контуре. Аналогия между механическими и электромагнитными колебаниями	1			Библиотека ЦОК https://m.edsoo.ru/ff0cb820
15	Формула Томсона. Закон сохранения энергии в идеальном колебательном контуре	1			Библиотека ЦОК https://m.edsoo.ru/ff0cb9c4

16	Представление о затухающих колебаниях. Вынужденные механические колебания. Резонанс. Вынужденные электромагнитные колебания	1			Библиотека ЦОК https://m.edsoo.ru/ff0cbb86
17	Переменный ток. Синусоидальный переменный ток. Мощность переменного тока. Амплитудное и действующее значение силы тока и напряжения	1			Библиотека ЦОК https://m.edsoo.ru/ff0cbd34
18	Трансформатор. Производство, передача и потребление электрической энергии	1			
19	Устройство и практическое применение электрического звонка, генератора переменного тока, линий электропередач	1			Библиотека ЦОК https://m.edsoo.ru/ff0cc324
20	Экологические риски при производстве электроэнергии. Культура использования электроэнергии в повседневной жизни	1			
21	Механические волны, условия распространения. Период. Скорость распространения и длина волны. Поперечные и продольные волны	1			Библиотека ЦОК https://m.edsoo.ru/ff0cca54
22	Звук. Скорость звука. Громкость звука. Высота тона. Тембр звука	1			Библиотека ЦОК https://m.edsoo.ru/ff0ccc0c
23	Электромагнитные волны, их свойства и скорость. Шкала электромагнитных волн	1			Библиотека ЦОК https://m.edsoo.ru/ff0ccfe0
24	Принципы радиосвязи и телевидения. Развитие средств связи. Радиолокация	1			
25	Контрольная работа «Колебания и волны»	1	1		Библиотека ЦОК https://m.edsoo.ru/ff0cc6f8

26	Прямолинейное распространение света в однородной среде. Точечный источник света. Луч света	1			Библиотека ЦОК https://m.edsoo.ru/ff0cd350
27	Отражение света. Законы отражения света. Построение изображений в плоском зеркале	1			Библиотека ЦОК https://m.edsoo.ru/ff0cd4e0
28	Преломление света. Полное внутреннее отражение. Предельный угол полного внутреннего отражения	1			Библиотека ЦОК https://m.edsoo.ru/ff0cd7f6
29	Лабораторная работа «Измерение показателя преломления стекла»	1		1	Библиотека ЦОК https://m.edsoo.ru/ff0cd67a
30	Линзы. Построение изображений в линзе. Формула тонкой линзы. Увеличение линзы	1			Библиотека ЦОК https://m.edsoo.ru/ff0cdd1e
31	Лабораторная работа «Исследование свойств изображений в линзах»	1		1	
32	Дисперсия света. Сложный состав белого света. Цвет. Лабораторная работа «Наблюдение дисперсии света»	1		1	
33	Интерференция света. Дифракция света. Дифракционная решётка	1			Библиотека ЦОК https://m.edsoo.ru/ff0ced22
34	Поперечность световых волн. Поляризация света	1			Библиотека ЦОК https://m.edsoo.ru/ff0cf02e
35	Оптические приборы и устройства и условия их безопасного применения	1			
36	Границы применимости классической механики. Постулаты специальной теории относительности	1			Библиотека ЦОК https://m.edsoo.ru/ff0cf862

37	Относительность одновременности. Замедление времени и сокращение длины	1			Библиотека ЦОК https://m.edsoo.ru/ff0cfa42
38	Энергия и импульс релятивистской частицы. Связь массы с энергией и импульсом. Энергия покоя	1			Библиотека ЦОК https://m.edsoo.ru/ff0cfc68
39	Контрольная работа «Оптика. Основы специальной теории относительности»	1	1		Библиотека ЦОК https://m.edsoo.ru/ff0cf6f0
40	Фотоны. Формула Планка. Энергия и импульс фотона	1			Библиотека ЦОК https://m.edsoo.ru/ff0cfe16
41	Открытие и исследование фотоэффекта. Опыты А. Г. Столетова	1			Библиотека ЦОК https://m.edsoo.ru/ff0cffc4
42	Законы фотоэффекта. Уравнение Эйнштейна для фотоэффекта. «Красная граница» фотоэффекта	1			Библиотека ЦОК https://m.edsoo.ru/ff0d015e
43	Давление света. Опыты П. Н. Лебедева. Химическое действие света	1			Библиотека ЦОК https://m.edsoo.ru/ff0d04a6
44	Технические устройства и практическое применение: фотоэлемент, фотодатчик, солнечная батарея, светодиод	1			
45	Решение задач по теме «Элементы квантовой оптики»	1			Библиотека ЦОК https://m.edsoo.ru/ff0d0302
46	Модель атома Томсона. Опыты Резерфорда по рассеянию α -частиц. Планетарная модель атома	1			Библиотека ЦОК https://m.edsoo.ru/ff0d091a
47	Постулаты Бора	1			Библиотека ЦОК https://m.edsoo.ru/ff0d0afa
48	Излучение и поглощение фотонов при переходе атома с одного уровня энергии	1			Библиотека ЦОК https://m.edsoo.ru/ff0d0afa

	на другой. Виды спектров				
49	Волновые свойства частиц. Волны де Бройля. Корпускулярно-волновой дуализм. Спонтанное и вынужденное излучение	1			Библиотека ЦОК https://m.edsoo.ru/ff0d0ca8
50	Открытие радиоактивности. Опыты Резерфорда по определению состава радиоактивного излучения	1			Библиотека ЦОК https://m.edsoo.ru/ff0d0fd2
51	Свойства альфа-, бета-, гамма-излучения. Влияние радиоактивности на живые организмы	1			
52	Открытие протона и нейтрона. Изотопы. Альфа-распад. Электронный и позитронный бета-распад. Гамма-излучение	1			Библиотека ЦОК https://m.edsoo.ru/ff0d1162
53	Энергия связи нуклонов в ядре. Ядерные реакции. Ядерный реактор. Проблемы, перспективы, экологические аспекты ядерной энергетики	1			Библиотека ЦОК https://m.edsoo.ru/ff0d1356
54	Элементарные частицы. Открытие позитрона. Методы наблюдения и регистрации элементарных частиц. Круглый стол «Фундаментальные взаимодействия. Единство физической картины мира»	1			Библиотека ЦОК https://m.edsoo.ru/ff0d0e38
55	Этапы развития астрономии. Прикладное и мировоззренческое значение астрономии. Вид звёздного неба. Созвездия, яркие звёзды, планеты, их	1			

	видимое движение. Солнечная система				
56	Солнце. Солнечная активность. Источник энергии Солнца и звёзд	1			
57	Звёзды, их основные характеристики. Звёзды главной последовательности. Внутреннее строение звёзд. Современные представления о происхождении и эволюции Солнца и звёзд	1			
58	Млечный Путь — наша Галактика. Положение и движение Солнца в Галактике. Галактики. Чёрные дыры в ядрах галактик	1			
59	Вселенная. Разбегание галактик. Теория Большого взрыва. Реликтовое излучение. Метагалактика	1			
60	Нерешенные проблемы астрономии	1			
61	Контрольная работа «Элементы астрономии и астрофизики»	1	1		
62	Обобщающий урок. Роль физики и астрономии в экономической, технологической, социальной и этической сферах деятельности человека	1			
63	Обобщающий урок. Роль и место физики и астрономии в современной научной картине мира	1			
64	Обобщающий урок. Роль физической теории в формировании представлений о физической картине мира	1			

65	Обобщающий урок. Место физической картины мира в общем ряду современных естественно-научных представлений о природе	1			
66	Повторение. Магнитное поле. Электромагнитная индукция	1			
67	Повторение. Оптика. Основы специальной теории относительности	1			
68	Повторение. Квантовая физика. Элементы астрономии и астрофизики	1			Библиотека ЦОК https://m.edsoo.ru/ff0d1784
ОБЩЕЕ КОЛИЧЕСТВО ЧАСОВ ПО ПРОГРАММЕ		68	4	7	

УЧЕБНО-МЕТОДИЧЕСКОЕ ОБЕСПЕЧЕНИЕ ОБРАЗОВАТЕЛЬНОГО ПРОЦЕССА

ОБЯЗАТЕЛЬНЫЕ УЧЕБНЫЕ МАТЕРИАЛЫ ДЛЯ УЧЕНИКА

1. Г.Я. Мякишев, Б.Б. Буховцев, Н.Н. Сотский «Физика. 10 класс»; М.:Просвещение, 2020г.
2. Г.Я. Мякишев, Б.Б. Буховцев, В.М.Чаругин «Физика. 11 класс»; М.:Просвещение, 2020г.
3. Степанова Г.Н. «Сборник задач по физике для 9-11 классов общеобразовательных школ».М.: Просвещение, 2005г.- 256с.

МЕТОДИЧЕСКИЕ МАТЕРИАЛЫ ДЛЯ УЧИТЕЛЯ

1. А.П. Рымкевич, Сборник задач по физике 10-11 классы, Дрофа, 2004
2. Степанова Г.Н. «Сборник задач по физике для 9-11 классов общеобразовательных школ».М.: Просвещение, 2005г.- 256с.
3. Кирик Л.А.«Самостоятельные и контрольные работы» М. Илекса 2010 г.
4. Рымкевич А.П., Рымкевич П.А. «Сборник задач по физике для 9-11 классов средней школы».- М.: Просвещение, 2006 г.- 192с.
5. Рымкевич А.П. Физика. Задачник. 10-11 кл.: Пособие для общеобразоват. учеб. заведений.-6-е изд., стереотип.-М.:Дрофа,2002.-192с.
6. Контрольно – измерительные материалы. 10 класс. Москва «Вако» 2010г.

ЦИФРОВЫЕ ОБРАЗОВАТЕЛЬНЫЕ РЕСУРСЫ И РЕСУРСЫ СЕТИ

ИНТЕРНЕТ

Открытая физика 1.1 Полный интерактивный курс физики для средних школ и лицеев. Для школьников 7-11 классов. Издатель: ООО «ФИЗИКОН»,1996-2001.

Виртуальная школа Кирилла и Мефодия 10 класс

Естественно-научные эксперименты — Физика: Коллекция Российского общеобразовательного портала <http://experiment.edu.ru>

Введение в нанотехнологии <http://nano-edu.ulsu.ru>

Газета «Физика» Издательского дома «Первое сентября» <http://fiz.1september.ru>

Занимательная физика в вопросах и ответах: сайт В. Елькина <http://elkin52.narod.ru>

КОНТРОЛЬНО-ИЗМЕРИТЕЛЬНЫЕ МАТЕРИАЛЫ

10 класс

Контрольная работа №1 Входная

- 1) С каким ускорением двигался при разбеге реактивный самолет массой 50 т, если сила тяги двигателей 80 кН?
- 2) Определить длину волны, распространяющейся со скоростью 2 м/с, в которой за 20 с происходит 10 колебаний.
- 3) Даны уравнения движения двух тел: $X_1 = 4 + 2t$ и $X_2 = 8 - 2t$. Постройте графики движения этих тел $x(t)$ и определите место и время встречи графически и аналитически.

Контрольная работа №2 «Кинематика Динамика. Законы сохранения в механике»

1 вариант

Часть 1

1. Перемещение – это:

1) векторная величина; 2) скалярная величина; 3) может быть и векторной и скалярной величиной; 4) правильного ответа нет.

2. Перемещением движущейся точки называют...

1) ...длину траектории; 2) пройденное расстояние от начальной точки траектории до конечной; 3) ... направленный отрезок прямой, соединяющий начальное положение точки с его конечным; 4) ...линию, которую описывает точка в заданной системе отсчета.

3. Ускорение – это:

1) физическая величина, равная отношению изменения скорости к тому промежутку времени, за который это изменение произошло; 2) физическая величина, равная отношению изменения скорости к тому физически малому промежутку времени, за которое это изменение произошло; 3) физическая величина, равная отношению перемещения ко времени.

4. Локомотив разгоняется до скорости 20 м/с, двигаясь по прямой с ускорением 5 м/с². Начальная скорость его равна нулю. Сколько времени длится разгон?

1) 0,25 с; 2) 2 с; 3) 100 с; 4) 4 с.

5. Какие силы в механике сохраняют свое значение при переходе из одной инерциальной системы в другую?

1) силы тяготения, трения, упругости; 2) только сила тяготения; 3) только сила упругости; 4) только сила трения.

6. Равнодействующая сила – это:

1) сила, действие которой заменяет действие всех сил, действующих на тело; 2) сила, заменяющая действие сил, с которыми взаимодействуют тела.

7. Согласно закону Гука сила натяжения пружины при растягивании прямо пропорциональна

1) ее длине в свободном состоянии; 2) ее длине в натянутом состоянии; 3) разнице между длиной в натянутом и свободном состояниях; 4) сумме длин в натянутом и свободном состояниях.

8. Спортсмен совершает прыжок с шестом. Сила тяжести действует на спортсмена 1) только в течение того времени, когда он соприкасается с поверхностью Земли; 2) только в течение того времени, когда он сгибает шест в начале прыжка; 3) только в течение того времени, когда он падает вниз после преодоления планки; 4) во всех этих случаях.

9. Вес тела:

1) свойство тела; 2) физическая величина; 3) физическое явление.

10. Сила тяготения – это сила обусловленная:

1) гравитационным взаимодействием; 2) электромагнитным взаимодействием; 3) и гравитационным, и электромагнитным взаимодействием.

11. Товарный вагон, движущийся по горизонтальному пути с небольшой скоростью, сталкивается с другим вагоном и останавливается. При этом пружина буфера сжимается. Какое из перечисленных ниже преобразований энергии наряду с другими происходит в этом процессе?

1) кинетическая энергия вагона преобразуется в потенциальную энергию пружины; 2) кинетическая энергия вагона преобразуется в его потенциальную энергию; 3) потенциальная энергия пружины преобразуется в ее кинетическую энергию; 4) внутренняя энергия пружины преобразуется в кинетическую энергию вагона.

12. Кинетическая энергия тела 8 Дж, а величина импульса 4 Н·с, Масса тела равна...

1) 0,5 кг; 2) 1 кг; 3) 2 кг; 4) 32 кг.

Часть 2

1. Свободно падающее тело прошло последние 30 м за 0,5 с. Найдите высоту падения.
2. Определите удлинение пружины, если на нее действует сила 10 Н, а коэффициент жесткости 500 Н/м.
3. Автомобиль массой 4 т движется в гору с ускорением $0,2 \text{ м/с}^2$. Найдите силу тяги, если уклон равен 0,02, а коэффициент сопротивления 0,04.

2 вариант

Часть 1

1. Модуль перемещения при криволинейном движении в одном направлении:

1) равен пройденному пути; 2) больше пройденного пути; 3) меньше пройденного пути; 4) правильного ответа нет.

2. Средняя скорость характеризует:

1) равномерное движение; 2) неравномерное движение;

3. Проекция ускорения на координатную ось может быть:

1) только положительной; 2) только отрицательной; 3) и положительной, и отрицательной, и равной нулю.

4. При подходе к станции поезд уменьшил скорость на 10 м/с в течение 20 с . С каким ускорением двигался поезд?

1) $-0,5\text{ м/с}^2$; 2) 2 м/с^2 ; 3) $0,5\text{ м/с}^2$; 4) -2 м/с^2 .

5. В инерциальной системе отсчета F сообщает телу массой m ускорение a . Как изменится ускорение тела, если массу тела и действующую на него силу уменьшить в 2 раза?

1) увеличится в 4 раза; 2) уменьшится в 4 раза; 3) уменьшится в 8 раз; 4) не изменится.

6. после открытия парашюта парашютист под действием силы тяжести и силы сопротивления воздуха двигался вниз с ускорением, направленным вверх. Как станет двигаться парашютист, когда при достижении некоторого значения скорости равнодействующая силы тяжести и силы сопротивления воздуха окажется равной нулю?

1) равномерно и прямолинейно вверх; 2) равномерно и прямолинейно вниз; 3) с ускорением свободного падения вниз; 4) будет неподвижным.

7. Закон инерции открыл

1) Демокрит; 2) Аристотель; 3) Галилей; 4) Ньютон.

8. Импульс системы, состоящей из нескольких материальных точек, равен:

1) сумме модулей импульсов всех ее материальных точек; 2) векторной сумме импульсов всех ее материальных точек; 3) импульсы нельзя складывать.

9. Утверждение о том, что импульсы замкнутой системы тел не изменяются, является:

1) необоснованным; 2) физическим законом; 3) вымыслом; 4) затрудняюсь что-либо сказать по этому поводу.

10. Мальчик массой 50 кг , стоя на очень гладком льду, бросает груз массой 8 кг под углом 60° к горизонту со скоростью 5 м/с . Какую скорость приобретет мальчик?

1) $5,8\text{ м/с}$; 2) $1,36\text{ м/с}$; 3) $0,8\text{ м/с}$; 4) $0,4\text{ м/с}$.

11. Навстречу друг другу летят шарики из пластилина. Модули их импульсов равны соответственно $0,03\text{ кг}\cdot\text{м/с}$ и $0,04\text{ кг}\cdot\text{м/с}$. Столкнувшись, шарики слипаются. Импульс слипшихся шариков равен

1) $0,01\text{ кг}\cdot\text{м/с}$; 2) $0,0351\text{ кг}\cdot\text{м/с}$; 3) $0,05\text{ кг}\cdot\text{м/с}$; 4) $0,07\text{ кг}\cdot\text{м/с}$;

12. Тело движется по прямой. Под действием постоянной силы величиной 4 Н за 2 с импульс тела увеличился и стал равен $20\text{ кг}\cdot\text{м/с}$. Первоначальный импульс тела равен

1) $4\text{ кг}\cdot\text{м/с}$; 2) $8\text{ кг}\cdot\text{м/с}$; 3) $12\text{ кг}\cdot\text{м/с}$; 4) $28\text{ кг}\cdot\text{м/с}$;

Часть 2

1. Тело падает с высоты 100 м без начальной скорости. За какое время тело проходит первый и последний метры своего пути?

2. Коэффициент жесткости резинового жгута 40 Н/м. Каков коэффициент жесткости того же жгута, сложенного пополам?
3. Какую скорость относительно Земли приобретает ракета массой 600 г, если пороховые газы массой 15 г вылетают из нее со скоростью 800 м/с?

Контрольная работа №3
Тема «Молекулярная физика и термодинамика»
Вариант 1.

Часть А

1. Что является наиболее наглядным опытным подтверждением существования атомов и молекул?
А) диффузия; Б) наблюдение с помощью оптического микроскопа; В) капля масла растекается по поверхности воды.
2. Как изменится давление идеального газа при увеличении его концентрации в 2 раза?
А) увеличится в 2 раза; Б) уменьшится в 2 раза; В) не изменится.
3. В сосуде находилась некоторая масса идеального газа. Объем газа увеличили в 3 раза, а абсолютную температуру газа уменьшили в 3 раза. Выберите верное утверждение.
А) давление газа не изменилось; Б) давление газа увеличилось в 3 раза; В) давление газа уменьшилось в 9 раз.
4. При осуществлении какого изопроцесса уменьшение абсолютной температуры идеального газа в 2 раза приводит к уменьшению объема газа в 2 раза?
А) изохорного; Б) изобарного; В) изотермического.
5. Выразите в градусах Цельсия значение температуры : 50 К.
6. С газом выполняют указанные ниже процессы . При каких процессах работа газа равна нулю?
А) изобарном нагревании; Б) изохорном охлаждении; В) изотермическом сжатии.
7. Как называется изопроцесс, для которого первый закон термодинамики имеет вид:
 $A + Q = 0$?
А) изохорный ; Б) изотермический ; В) изобарный.
8. При изобарном расширении газа была совершена работа 600 Дж. На сколько изменился объем газа, если давление газа было 4×10^5 Па?

Часть В

9. Азот массой 280 г нагрет при постоянном давлении на 100°C . Определить работу расширения.
10. КПД теплового двигателя 40 %. Газ получил от нагревателя 5 кДж теплоты. Какова работа газа? Какое количество теплоты отдано холодильнику?

11. Абсолютную температуру данной массы идеального газа удвоили. Как при этом изменяется плотность газа, если нагревание производилось изобарно? Обосновать.

Вариант 2.

Часть А

1. Что является наиболее наглядным опытным подтверждением существования взаимодействия между молекулами?

А) возникновение сил упругости при деформации тел; Б) диффузия; В) броуновское движение.

2. Как изменится кинетическая энергия движения атомов идеального газа, при увеличении его температуры в 3 раза?

А) не изменится; Б) увеличится в 3 раза; В) увеличится в 9 раз.

3. В сосуде находилась некоторая масса идеального газа. Давление газа увеличили в 2 раза, а абсолютную температуру уменьшили в 2 раза. Выберите верное утверждение.

А) объем газа не изменился; Б) объем газа увеличился в 4 раза; В) объем газа уменьшился в 4 раза.

4. При осуществлении какого изопроцесса увеличение объема идеального газа в 2 раза приводит к уменьшению давления в 2 раза?

А) изотермического; Б) изохорного; В) изобарного.

5. Выразите в Кельвинах значение температуры : -27°C .

6. Газ изотермически расширяется. Выберите верное утверждение.

А) внутренняя энергия газа увеличивается; Б) давление газа увеличивается; В) работа газа положительна.

7. Как называется изопроцесс, для которого первый закон термодинамики имеет вид:

$$U = Q ?$$

А) изохорный; Б) изотермический ; В) изобарный.

8. В процессе изобарного расширения газа была совершена работа 400 Дж. При каком давлении совершался процесс, если его объем изменился с $0,3 \text{ м}^3$ до $0,6 \text{ м}^3$?

Часть В

9. На сколько изменилась внутренняя энергия углекислого газа (CO_2) массой 450 г, если его температуру увеличили на 50°C ?

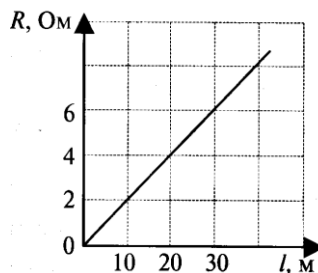
10. Температура нагревателя тепловой машины 150°C , а холодильника 25°C . Машина получила от нагревателя 40 кДж теплоты. Как велика работа, произведенная машиной?

11. Абсолютную температуру данной массы идеального газа удвоили. Как при этом менялась плотность газа, если нагревание производилось изохорно? Обосновать.

Контрольная работа №4
«Постоянный электрический ток»
ВАРИАНТ № 1

1. На рисунке показана зависимость проводника площадью сечения 1 мм^2 от его длины. Чему равно удельное сопротивление вещества, из которого сделан

Ответ: _____ Ом·мм²/м



сопротивления

электрического проводника?

через проводник, концами, а

2. Как изменится сила тока, проходящего если увеличить в 2 раза напряжение между его площадь сечения проводника уменьшить в 2 раза?

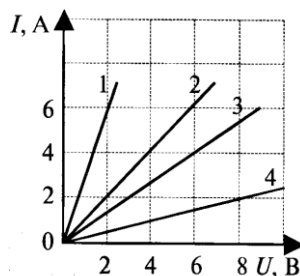
- 1) не изменится 3) увеличится в 2 раза
 2) уменьшится в 2 раза 4) уменьшится в 4 раза

Ответ: _____

3. На рисунке изображены графики зависимости четырех проводниках от напряжения на их Сопротивление какого проводника равно 4 Ом?

- 1) проводника 1 3) проводника 3
 2) проводника 2 4) проводника 4

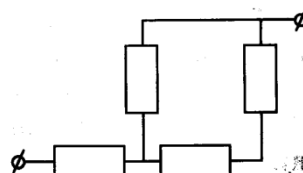
Ответ: _____



силы тока в концах.

4. На участке цепи, изображенном на рисунке, каждого резистора равно 3 Ом. Общее участка равно

Ответ: _____ Ом

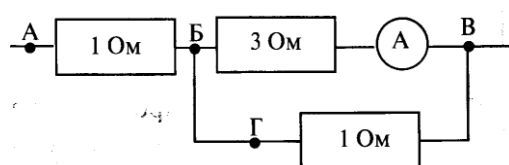


сопротивление сопротивления

5. В цепи, изображенной на амперметр показывает силу тока точкам нужно подключить его показания были равны 4 В?

- 1) АБ 3) БГ
 2) БВ 4) АВ

Ответ: _____

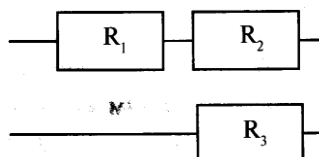


рисунке 1 А. К каким вольтметр, чтобы

6. Три резистора сопротивлениями $R_1=10 \text{ Ом}$, Ом соединены в цепь как показано на рисунке. резисторе выделится наибольшее количество

- 1) на первом 3) на третьем
 2) на втором 4) на всех одинаково

Ответ: _____



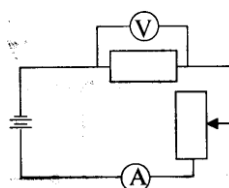
$R_2=6 \text{ Ом}$ и $R_3=3$ На каком теплоты

7. ЭДС источника равна 8 В, внешнее сопротивление 3 Ом, внутреннее сопротивление 1 Ом. Сила тока в полной цепи равна

Ответ: _____ А

8. Используя условие задачи установите соответствие величин с их изменениями. К каждой позиции первого столбца подберите соответствующую позицию второго и запишите в таблицу выбранные цифры под соответствующими буквами.

В цепи, изображенной на рисунке, ползунок реостата вниз. При этом...



передвинули

ФИЗИЧЕСКАЯ ВЕЛИЧИНА

ИЗМЕНЕНИЕ

- | | |
|----------------------------|------------------|
| А) Сила тока | 1) увеличивается |
| Б) Электродвижущая сила | 2) уменьшается |
| В) Напряжение на резисторе | 3) не изменяется |
| Г) Сопротивление реостата | |

А	Б	В	Г

9. В электроприборе за 15 минут электрическим током совершена работа 9 кДж. Сила тока в цепи 2 А. Определите сопротивление прибора.

Ответ: _____ Ом

10. Электрическая цепь состоит из двух резисторов сопротивлением по 4 Ом соединенных последовательно, источника тока с ЭДС 30 В и внутренним сопротивлением 2 Ом. Определить силу тока цепи.

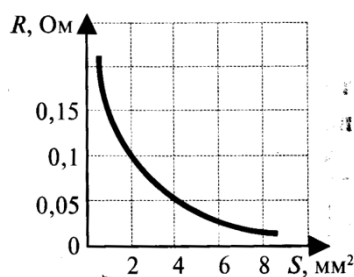
Ответ: _____ А

11. Температура однородного медного цилиндрического проводника длиной 10 м в течение 57 с повысилась на 10 К. Определить напряжение, которое было приложено к проводнику в это время. Изменением сопротивления проводника и рассеянием тепла при его нагревании пренебречь.

ВАРИАНТ № 2

1. На рисунке показана зависимость проводника длиной 1 м от его площади равно удельное электрическое сопротивление которого сделан проводник?

Ответ: _____ Ом·мм²/м



сопротивления сечения. Чему вещества, из

2. Как изменится сила тока, проходящего проводник, если уменьшить в 2 раза между его концами, а длину проводника увеличить в 2 раза?

- | | |
|------------------------|------------------------|
| 1) не изменится | 3) увеличится в 2 раза |
| 2) уменьшится в 2 раза | 4) уменьшится в 4 раза |

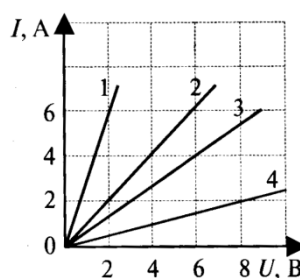
Ответ: _____

через напряжение

3. На рисунке изображены графики тока в четырех проводниках от напряжения на Сопротивление какого проводника равно 1,5

- | | |
|-----------------|-----------------|
| 1) проводника 1 | 3) проводника 3 |
| 2) проводника 2 | 4) проводника 4 |

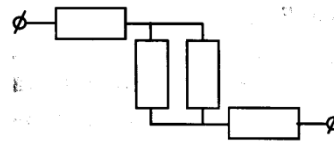
Ответ: _____



зависимости силы их концов. Ом?

4. На участке цепи, изображенном на сопротивлении каждого резистора равно 4 сопротивление участка равно

Ответ: _____ Ом

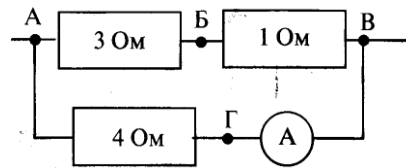


рисунке, Ом. Общее

5. В цепи, изображенной на рисунке показывает силу тока 2 А. К каким подключить вольтметр, чтобы его равны 2 В?

- 1) АБ 3) БВ
2) АВ 4) БГ

Ответ: _____

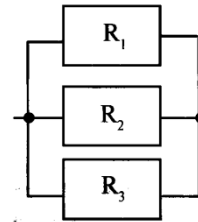


амперметр точкам нужно показания были

6. Три резистора сопротивлениями $R_1=10$ Ом, $R_2=6$ соединены в цепь как показано на рисунке. На каком выделится наибольшее количество теплоты

- 1) на первом 3) на третьем
2) на втором 4) на всех одинаково

Ответ: _____



Ом и $R_3=3$ Ом резисторе

7. Сила тока в полной цепи 8 А, внешнее сопротивление 4 Ом, внутреннее сопротивление 1 Ом. ЭДС источника равна

Ответ: _____ В

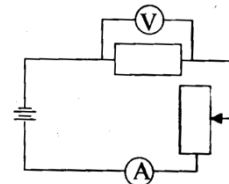
8. Используя условие задачи, установите соответствие между физическими величинами и их изменениями.

К каждой позиции первого столбца подберите соответствующую позицию второго и запишите в таблицу выбранные цифры под соответствующими буквами.

В цепи, изображенной на рисунке, ползунок реостата передвинули вверх. При этом...

- ФИЗИЧЕСКИЕ ВЕЛИЧИНЫ
- А) Напряжение на резисторе
Б) Внутреннее сопротивление
В) Сила тока
Г) Сопротивление резистора

- ИЗМЕНЕНИЕ
- 1) увеличивается
2) уменьшается
3) не изменяется



А	Б	В	Г

9. Каково напряжение на резисторе сопротивлением 360 Ом, если за 12 мин электрическим током была совершена работа 450 Дж?

Ответ: _____ В

10. Электрическая цепь состоит из двух резисторов сопротивлением по 10 Ом каждый соединенных параллельно, источника тока с ЭДС 24 В и внутренним сопротивлением 1 Ом. Определить силу тока цепи.

Ответ: _____ А

11. К однородному медному цилиндрическому проводнику длиной 10 м приложили разность потенциалов 1 В. Определите промежуток времени, в течение которого температура проводника повысится на 10 К. Изменением сопротивления проводника и рассеянием тепла при его нагревании пренебречь.

11 класс

Контрольная работа 1 «Магнитное поле. Электромагнитная индукция»

Вариант 1

1. Замкнутый проводник сопротивлением $R = 3$ Ом находится в магнитном поле. В результате изменения индукции магнитного поля B магнитный поток Φ через контур возрос от $\Phi_1 = 0,0002$ Вб до $\Phi_2 = 0,0005$ Вб. Какой заряд Δq прошел через поперечное сечение проводника?
2. Металлический стержень, не соединенный с другими проводниками, движется в магнитном поле. Почему, несмотря на возникновение ЭДС индукции, в стержне не идет ток?
3. Указать направления тока в катушках при изменении положения ключа (рис. 1).
4. В катушке индуктивностью $L = 0,6$ Гн сила тока $I = 20$ А. Какова энергия магнитного поля катушки? Как она изменится при уменьшении силы тока в 2 раза? Какая ЭДС самоиндукции возникнет в катушке, если изменение силы тока в ней от нуля до 20 А произошло за время $\Delta t = 0,001$ с?

Вариант 2

1. В витке, выполненном из алюминиевого провода длиной 10 см и площадью поперечного сечения $1,4$ мм², скорость изменения магнитного потока 10 мВб/с. Найти силу индукционного тока.
2. Концы сложенной вдвое проволоки присоединены к гальванометру. Проволока движется, пересекая силовые линии магнитного поля, но стрелка гальванометра остается на нуле. Чем это можно объяснить?
3. Указать направления тока в катушках при изменении положения ключа (рис. 1).
4. Сила тока в катушке уменьшилась с 12 до 8 А. При этом энергия магнитного поля катушки уменьшилась на 2 Дж. Какова индуктивность катушки? Какова энергия ее магнитного поля в обоих случаях?

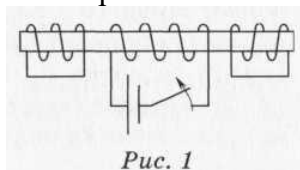


Рис. 1

вариант 1

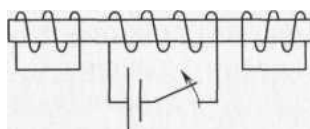


рис.1 вариант 2

Контрольная работа №2 по теме «Колебания и волны»

Вариант 1

1. Собственные колебания в контуре происходят по закону $i = 0,01 \cos 1000t$. Каковы параметры процесса? Какова индуктивность контура, если емкость его конденсатора 10 мкФ? Сколько энергии накоплено в контуре? Какова амплитуда колебаний напряжения на конденсаторе?
2. Колебательный контур состоит из катушки с индуктивностью 0,2 Гн и конденсатора емкостью 10 мкФ. В момент, когда напряжение на конденсаторе равно 1 В, сила тока в контуре равна 0,01 А. Какова максимальная сила тока в контуре и максимальное напряжение на конденсаторе?
3. Конденсатору колебательного контура был сообщен заряд 10^{-4} Кл, и в контуре начались свободные затухающие колебания. Зная, что емкость конденсатора равна 0,01 мкФ, найти количество теплоты, которое выделится в контуре к моменту, когда колебания полностью прекратятся.
4. В каком диапазоне длин волн может работать приемник, если емкость конденсатора в его колебательном контуре плавно изменяется от 50 до 500 пФ, а индуктивность катушки постоянна и равна 2 мкГн?
5. Изменение тока в антенне радиопередатчика происходит по закону $i = 0,3 \sin (5,7 \cdot 10^5 t)$. Найдите длину излучаемой электромагнитной волны.

Вариант 2

1. Собственные колебания в контуре протекают по закону $i = 0,01 \cos 4000t$. Каковы параметры процесса? Какова индуктивность контура, если емкость его конденсатора 10 мкФ? Сколько энергии накоплено в контуре? Какова амплитуда колебаний напряжения на конденсаторе?
2. Два параллельно соединенных конденсатора имеют одинаковую емкость 10 мкФ каждый. Батарею конденсаторов, заряженную от источника постоянного напряжения 200 В, подключают к катушке индуктивностью 8 мкГн. Какова максимальная сила тока в контуре? Определить силу тока в контуре в момент, когда напряжение на батарее конденсаторов 100 В.
3. При увеличении емкости конденсатора колебательного контура на 0,08 мкФ частота колебаний уменьшилась в 3 раза. Найти первоначальную емкость конденсатора. Индуктивность катушки осталась прежней.
4. Приемник работает в диапазоне длин волн от 10 м до 100 м, индуктивность катушки постоянна и равна 3 мкГн. В каком диапазоне изменяется емкость конденсатора в его колебательном контуре?
5. Изменение тока в антенне радиопередатчика происходит по закону $i = 0,3 \cos (11,4 \cdot 10^5 t)$. Найдите длину излучаемой электромагнитной волны.

Контрольная работа №3 по теме «Оптика. Основы специальной теории относительности»

Вариант 1

1. Луч света падает на зеркало под углом 35° к его поверхности. Чему равен угол между падающим и отраженным лучами? Чему равен угол отражения? Сделайте чертеж.
2. При помощи дифракционной решетки с периодом 0,02 мм получено первое дифракционное изображение на расстоянии 3,6 см от центрального и на расстоянии 1,8 м от решетки. Найдите длину световой волны.
3. Длина волны красного света в воздухе равна 700 нм. Какова длина света в воде (показатель преломления воды равен 1,33)?
4. Длина линейки, неподвижной относительно земного наблюдателя, 2 м. Какова длина линейки, движущейся относительно его со скоростью, равной 0,5 скорости света?
5. Во сколько раз замедляется ход времени (по часам «неподвижного» наблюдателя) при скорости движения 27000 км/с?

Вариант 2

1. Луч света падает на зеркало перпендикулярно. На какой угол отклонится отраженный луч от падающего, если зеркало повернуть на 16° ? Сделайте чертеж.
2. На дифракционную решетку перпендикулярно к её поверхности падает свет. Период решетки 10^{-5} м. Второй дифракционный максимум отклонен на 30° от перпендикуляра к решетке. Определите длину световой волны, падающей на решетку ($\sin 30^{\circ} = 0,5$).
3. Длина волны жёлтого света натрия в вакууме 590 нм, а в воде 442 нм. Каков показатель преломления воды для данного света?
4. С какой скоростью должен двигаться космический корабль относительно Земли, чтобы часы на нем шли в 4 раза медленнее, чем на Земле?
5. Масса покоящегося поезда равна 2000 тонн. На сколько увеличивается его масса при движении со скоростью 15 м/с?

Контрольная работа №4 «Элементы астрономии и астрофизики»

Часть А. Выберите правильный ответ.

1. Наука о Вселенной, изучающая движение, строение, происхождение и развитие небесных тел и их систем.

1. астрофизика;
2. астрография;
3. астрономия;
4. астрометрия.

2. Созвездием называется:

1. участок неба с установленными границами;
2. определенная фигура из звезд, в которую звезды объединены условно;
3. определенное количество звезд, воспринимаемое глазом наблюдателя;
4. звездные скопления.

3. В настоящее время Северный полюс мира

1. совпадает с Сириусом;
2. совпадает с Полярной звездой;
3. находится в 1,5 градуса от альфа Малой Медведицы;
4. не видим невооруженным глазом, поэтому можно обнаружить только с помощью приборов.

4. Созвездие Большой Медведицы совершает полный оборот вокруг Полярной звезды за время, равное:

1. одной ночи;
2. суткам;
3. году;
4. одному месяцу.

5. Где бы вы искали Полярную звезду, если бы находились на экваторе?

1. в точке зенита;
2. на высоте 40° над горизонтом;
3. на горизонте;
4. правильного ответа нет.

6. Как называется большой круг небесной сферы, по которому происходит видимое годичное движение Солнца.

1. Эклиптика;
2. Небесный экватор;
3. Кульминация;
4. Прямое восхождение.

7. Наивысшая точка небесной сферы называется:

1. зенит;
2. надир;
3. точка востока;
4. точка севера.

8. Точки пересечения небесного экватора с эклиптической называются:

1. надир и зенит;
2. точками осеннего и весеннего равноденствия;
3. точками зимнего и летнего солнцестояния;
4. северным и южным полюсом.

9. При каких условиях наступает лунное затмение

1. в полнолуние, если Земля находится на одной прямой между Солнцем и Луной;
2. в новолуние, если Земля находится на одной прямой между Солнцем и Луной;

3. в полнолуние, если Луна находится между Солнцем и Землей;
4. в новолуние, если Луна находится между Солнцем и Землей.

10. Какое астрономическое явление помогло историкам установить, что войска князя Игоря были на границе половецкой земли 1 мая 1185 года.

1. Полное солнечное затмение;
2. Лунное затмение;
3. Новолуние;
4. Полнолуние.

Часть В. Из приведенных ниже утверждений выберите правильные.

1. Выберите два верных утверждения.

1. Зенит находится вертикально над головой у человека, находящегося на какой-либо широте земного шара.
2. Полус мира находится вертикально над головой у человека, находящегося на любой широте земного шара.
3. Зенит и полюс мира совпадают для наблюдателя на экваторе Земли.
4. Зенит и полюс мира совпадают для наблюдателя, находящегося на северном полюсе Земли.

--	--

2. Укажите вклад каждого ученого в изучение Солнечной системы.

1. Наблюдая за движением Венеры по диску Солнца, этот учёный 26 мая 1761 года открыл атмосферу Венеры.	1) Николай Коперник
2. Профессиональный музыкант, который начал заниматься астрономией как любитель, что не помешало ему открыть в 1781 году планету Уран.	2) Исаак Ньютон
3. Этот учёный доказал существование неровностей Луны, пятен на Солнце, фаз Венеры, спутников Юпитера.	3) Клавдий Птолемей
4. Он первым высказал предположение, что Солнце является центральным небесным телом, вокруг которого обращается Земля и другие планеты.	4) Иоганн Кеплер
5. Более 20 лет наблюдал и регистрировал движение планет.	5) Джордано Бруно
6. На основе наблюдательных данных вывел три закона движения планет.	6) Тихо Браге
	7) М. В. Ломоносов
	8) Галилео Галилей
	9) У. Гершель

Ответ.

1	2	3	4	5	6

Часть С. Работа с текстом.

1. Заполните пропуски в тексте.

«Создать полную картину мира выпало на долю _____. В сочинении под названием «Альмагест» основное содержание сводится к изложению _____ системы мира, в которой шарообразная Земля занимает центральное неподвижное

положение. Это была _____ теория, позволяющая заранее предсказать местоположение всех планет».

2. Впишите недостающие слова в текст.

«В своей системе мира _____ назвал Землю до роли рядовой планеты, _____ он поместил в центре системы, а все планеты вместе с _____ двигались вокруг _____ по круговым орбитам».

3. В представленном списке созвездий определите лишнее и обоснуйте свой ответ.

«Зодиакальные созвездия (от греческого «звериный»), расположены вдоль видимого годового пути Солнца. Название связано с тем, что большинство зодиакальных созвездий с древних времён носят названия животных. Например, Скорпион, Козерог, Дракон, Рыбы, Лев, Змееносец, Рак, Овен, Телец».

Ответ: _____

Ответы.

Вопрос	Ответ
Часть А	
1	3
2	1
3	3
4	2
5	3
6	1
7	1
8	2
9	1
10	1
Часть В	
1	14 или 41
2	798164
Часть С	
1	Клавдий Птолемей, геоцентрическая
2	Н. Коперник, Солнце, Земля, Солнце.
5	13 зодиакальных созвездий, созвездие Дракон не относится

КРИТЕРИИ ОЦЕНИВАНИЯ

Оценка устных ответов учащихся

Оценка «5» ставится в том случае, если учащийся показывает верное понимание физической сущности рассматриваемых явлений и закономерностей, законов и теорий, даёт точное определение и истолкование основных понятий и законов, теорий, а также правильное определение физических величин, их единиц и способов измерения; правильно выполняет чертежи, схемы и графики; строит ответ по собственному плану, сопровождает рассказ новыми примерами, умеет применять знания в новой ситуации при выполнении практических заданий; может устанавливать связь между изучаемым и ранее изученным материалом по курсу физики, а также с материалом усвоенным при изучении других предметов.

Оценка «4» ставится в том случае, если ответ ученика удовлетворяет основным требованиям к ответу на оценку 5, но без использования собственного плана, новых примеров, без применения знаний в новой ситуации, без использования связей с ранее изученным материалом, усвоенным при изучении других предметов; если учащийся допустил одну ошибку или не более двух недочетов и может исправить их самостоятельно или с небольшой помощью учителя.

Оценка «3» ставится в том случае, если учащийся правильно понимает физическую сущность рассматриваемых явлений и закономерностей, но в ответе имеются отдельные пробелы в усвоении вопросов курса физики; не препятствует дальнейшему усвоению программного материала, умеет применять полученные знания при решении простых задач с использованием готовых формул, но затрудняется при решении задач, требующих преобразования некоторых формул; допустил не более одной грубой и одной негрубой ошибки, не более двух-трех негрубых недочетов.

Оценка «2» ставится в том случае, если учащийся не овладел основными знаниями в соответствии с требованиями и допустил больше ошибок и недочетов, чем необходимо для оценки «3».

Оценка физических диктантов и тестов

Оценка «5» ставится за работу в том случае, если обучающийся набрал от 90% до 100% максимального балла.

Оценка «4» ставится за работу в том случае, если обучающийся набрал от 50% до 90% максимального балла.

Оценка «3» ставится за работу в том случае, если обучающийся набрал 50% максимального балла.

Оценка «2» ставится за работу в том случае, если обучающийся набрал менее 50% максимального балла.

Оценка самостоятельных и контрольных работ

Оценка «5» ставится за работу, выполненную полностью без ошибок и недочетов.

Оценка «4» ставится за работу, выполненную полностью, но при наличии не более одной ошибки и одного недочета, не более трех недочетов.

Оценка «3» ставится за работу, выполненную на 2/3 всей работы правильно или при допущении не более одной грубой ошибки, не более трех негрубых ошибок, одной негрубой ошибки и трех недочетов, при наличии четырех-пяти недочетов.

Оценка «2» ставится за работу, в которой число ошибок и недочетов превысило норму для оценки 3 или правильно выполнено менее 2/3 работы.

Оценка лабораторных работ

Оценка «5» ставится в том случае, если учащийся выполнил работу в полном объеме с соблюдением необходимой последовательности проведения опытов и измерений; самостоятельно и рационально монтирует необходимое оборудование; все опыты проводит в условиях и режимах, обеспечивающих получение правильных результатов и выводов; соблюдает требования правил безопасного труда; в отчете правильно и аккуратно выполняет все записи, таблицы, рисунки, чертежи, графики, вычисления, правильно выполняет анализ погрешностей.

Оценка «4» ставится в том случае, если учащийся выполнил работу в соответствии с требованиями к оценке 5, но допустил два-три недочета, не более одной негрубой ошибки и одного недочета.

Оценка «3» ставится в том случае, если учащийся выполнил работу не полностью, но объем выполненной части таков, что позволяет получить правильные результаты и выводы, если в ходе проведения опыта и измерений были допущены ошибки.

Оценка «2» ставится в том случае, если учащийся выполнил работу не полностью и объем выполненной работы не позволяет сделать правильные выводы, вычисления; наблюдения проводились неправильно.

Во всех случаях оценка снижается, если учащийся не соблюдал требований правил безопасного труда.